



Arrastra la figura que obtenemos al realizar las siguientes multiplicaciones al lugar que le corresponde:


$$\text{Cuarto} \times 2 = \underline{\hspace{2cm}}$$




$$\text{Medio} \times 2 = \underline{\hspace{2cm}}$$




$$\text{Ochoavo} \times 2 = \underline{\hspace{2cm}}$$




$$\text{Cuarto} \times 4 = \underline{\hspace{2cm}}$$




$$\text{Medio} \times 4 = \underline{\hspace{2cm}}$$




$$\text{Ochoavo} \times 4 = \underline{\hspace{2cm}}$$



$$\text{Cuarto} \times 8 = \underline{\hspace{2cm}}$$



$$\text{Medio} \times 8 = \underline{\hspace{2cm}}$$



$$\text{Ochoavo} \times 8 = \underline{\hspace{2cm}}$$

