



FORMANDO PERSONAS
FELICES E INTELIGENTES

BELL ACADEMY

UNIDAD EDUCATIVA PARTICULAR
ACTIVIDADES EVALUATIVAS PARCIAL 1

AÑO LECTIVO
2020- 2021

SECUENCIAS Y PATRONES NUMÉRICOS

- Identifica el patrón y completa la secuencia

8	16					
---	----	--	--	--	--	--

PATRON:

99	94					
----	----	--	--	--	--	--

PATRON:

- Completa las secuencias crecientes y decrecientes con los patrones indicados.

PATRON +9		23						
PATRON -25		115						

ADICIONES

- Resuelve las siguientes adiciones de forma vertical.


$$\begin{array}{r} 257 \\ + 621 \\ \hline \end{array}$$

$$\begin{array}{r} 627 \\ + 352 \\ \hline \end{array}$$


$$\begin{array}{r} 573 \\ + 224 \\ \hline \end{array}$$

- Escribe dentro de la estrella la respuesta correcta las siguientes adiciones de forma horizontal.

573 + 243 =



63 + 13 =





FORMANDO PERSONAS
FELICES E INTELIGENTES

BELL ACADEMY

UNIDAD EDUCATIVA PARTICULAR
ACTIVIDADES EVALUATIVAS PARCIAL 1

AÑO LECTIVO
2020- 2021

SUSTRACCIONES

- Resuelve las siguientes sustracciones de forma vertical.


$$\begin{array}{r} 535 \\ - 286 \\ \hline \end{array}$$

$$\begin{array}{r} 811 \\ - 126 \\ \hline \end{array}$$


$$\begin{array}{r} 102 \\ - 30 \\ \hline \end{array}$$

- Escribe dentro de la estrella la respuesta correcta las siguientes sustracciones de forma horizontal.

$$847 - 679 =$$



$$81 - 65 =$$



PROBLEMAS MATEMÁTICOS

- Resolvemos los siguientes problemas.
 - Voy a la papelería a comprar algunos materiales que necesito en el colegio: 3 cuadernos, 30 cartulinas, 25 fomix, 14 marcadores. ¿Cuántos útiles escolares compré en total?

$$\boxed{} \boxed{} \boxed{} \boxed{} \boxed{} \boxed{} = \boxed{}$$

Compré

útiles escolares.



FORMANDO PERSONAS
FELICES E INTELIGENTES

BELL ACADEMY

UNIDAD EDUCATIVA PARTICULAR
ACTIVIDADES EVALUATIVAS PARCIAL 1

AÑO LECTIVO
2020- 2021

2. Mi mamá compro en la frutería 15 manzanas, 20 guineos, 2 sandias y 10 naranjas. Llegando a casa preparó una ensalada de frutas, utilizó 16 de las frutas que compró. ¿Cuántas frutas le quedaron?

$$\boxed{} \text{ } \boxed{} \text{ } \boxed{} \text{ } \boxed{} \text{ } \boxed{} = \boxed{}$$

$$\boxed{} \text{ } \boxed{} = \boxed{}$$

Le quedaron $\boxed{}$ frutas.

3. Alejandro tiene una colección de 115 rompecabezas, los 27 están incompletos. ¿Cuántos rompecabezas están completos?

$$\boxed{} \text{ } \boxed{} = \boxed{}$$

Están $\boxed{}$ rompecabezas completos.