



CUESTIONARIO DE SOCIALES

Nombre: _____

1. El relieve.

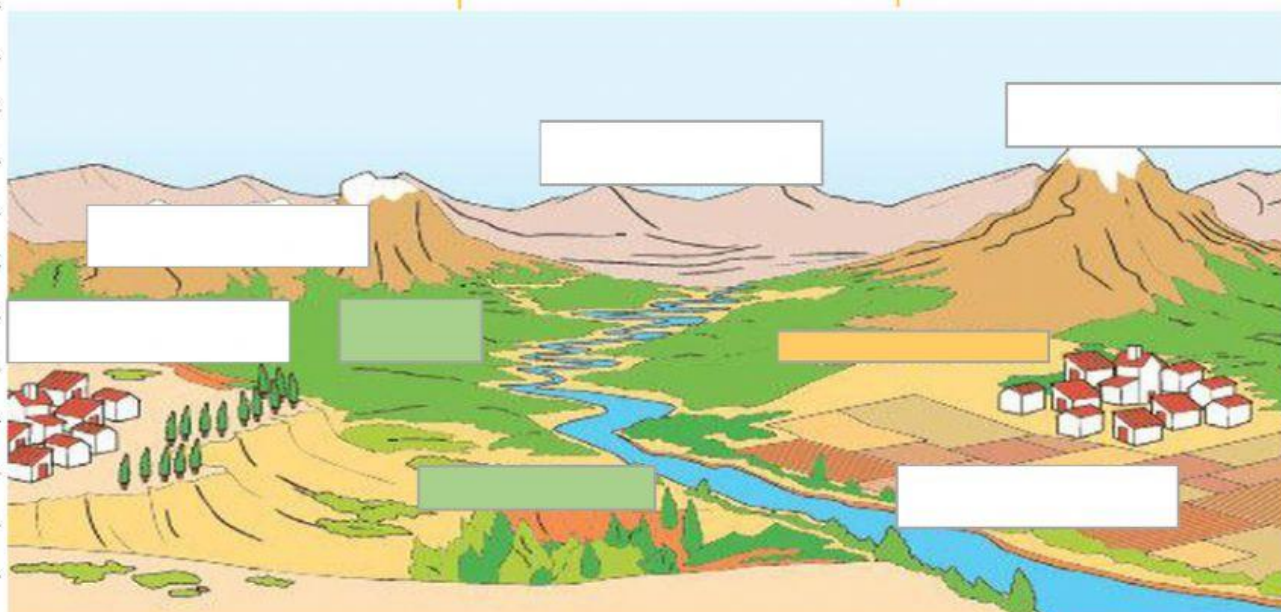
1.1. Selecciona el concepto de relieve.

El relieve
es la
superficie
terrestre.

El relieve
son
montañas.

El relieve son
las distintas
formas de la
superficie
terrestre.

1.2. Ubica correctamente los diferentes tipos de relieve que tiene la tierra.





1.3. Relaciona correctamente.

MESETA	Superficie plana sin elevaciones.
NEVADO	Montaña cubierta por nieve.
CORDILLERA	Superficie elevada y plana.
LLANURA	Conjunto de montañas.

2. El paisaje.

2.1. Completa con las palabras del recuadro.

Rural - paisajes - edificios - naturaleza - urbano

Existen dos tipos de _____, está el paisaje _____ que está rodeado principalmente por la _____, y esta el paisaje _____ que se caracteriza por la construcción de _____.

Recuerda que el paisaje es el terreno que puede apreciarse a simple vista y sus características pueden ser naturales o por influencia humana.





2.2. Arrastra correctamente la imagen.



PAISAJE RURAL	PAISAJE URBANO

3. El barrio.




3.1. Seleccione la respuesta correcta.

El _____ son conjuntos de
_____ agrupadas en varias
cuadras o _____. Entre los
barrios hay _____ y carreras.



4. La contaminación.

4.1. Escucha la información del megáfono. Luego arrastra la imagen que corresponde.

El ambiente es el conjunto de la naturaleza y la presencia de los seres humanos.





5. Desarrollo sostenible.

5.1. Selecciona los recuadros que definan, ¿Qué es el desarrollo sostenible?

Vida plena

Necesidades atendidas

Ambiente destruido

Economía estable

5.2. Selecciona los acuerdos que se acordaron en la agenda 21.

Aprovechar
correctamen
te los
recursos
naturales

Proteger y
curar la
tierra.

Incluir la
partición de
los seres
humanos

Provocar
guerras para
la destruir
la naturaleza

Acabar la
pobreza

Malgastar
los
recursos
naturales