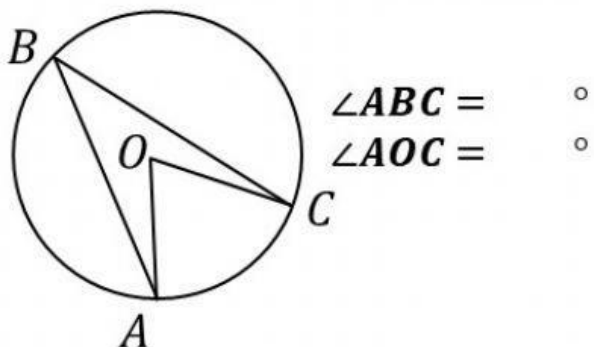
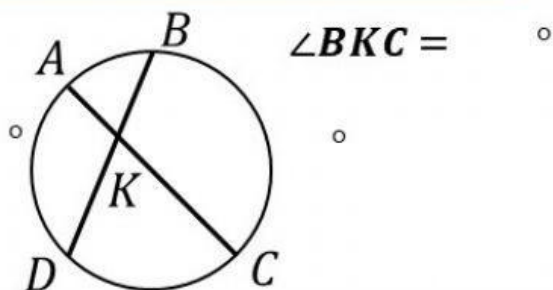


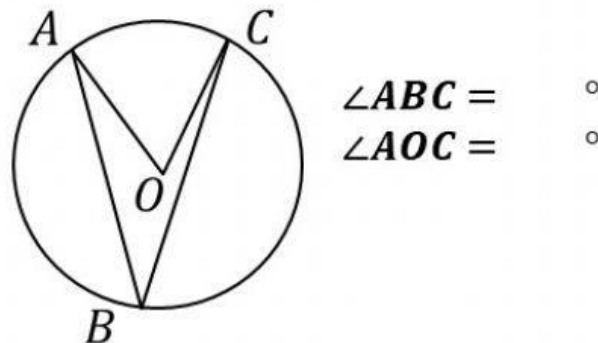
Центральный угол  $AOC$  на  $18^\circ$  больше соответствующего вписанного угла  $ABC$ .



$\sphericalangle AD = 78^\circ, \sphericalangle BC = 64^\circ.$



Вписанный угол  $ABC$  на  $24^\circ$  меньше соответствующего центрального угла  $AOC$ .



$\sphericalangle AB = 26^\circ, \sphericalangle DC = 82^\circ.$

