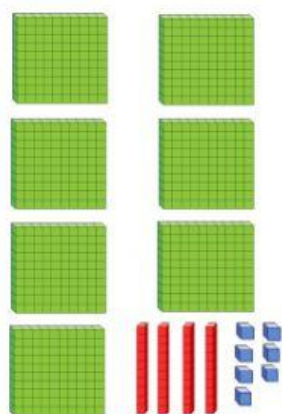
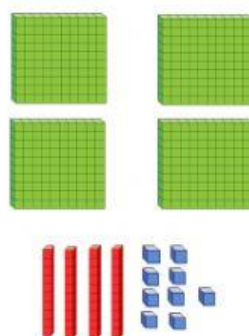
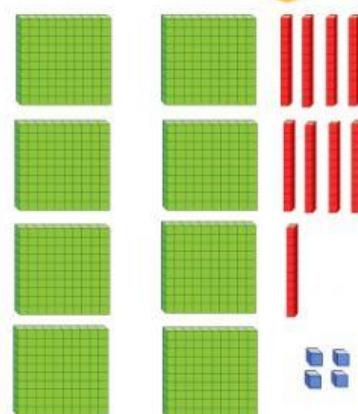


1 Escribe el número correcto en cada caso.







2 Une.

8C 9D

$900+40+9$

9C 4D 9U

$800+90$

5C 8D 9U

700

7C

$500+80+9$

3 Observa
el ejemplo con
atención y
completa.

$736 = 700 + 30 + 6 = 7c + 3d + 6u$

$399 = \square + \square + 9 = \square + \square + \square$

$516 = \square + \square + \square = 5c + \square + \square$

$111 = \square + \square + \square = \square + \square + \square$

4 Escribe con letra los siguientes números.

111 → _____

303 → _____

634 → _____

515 → _____

328 → _____