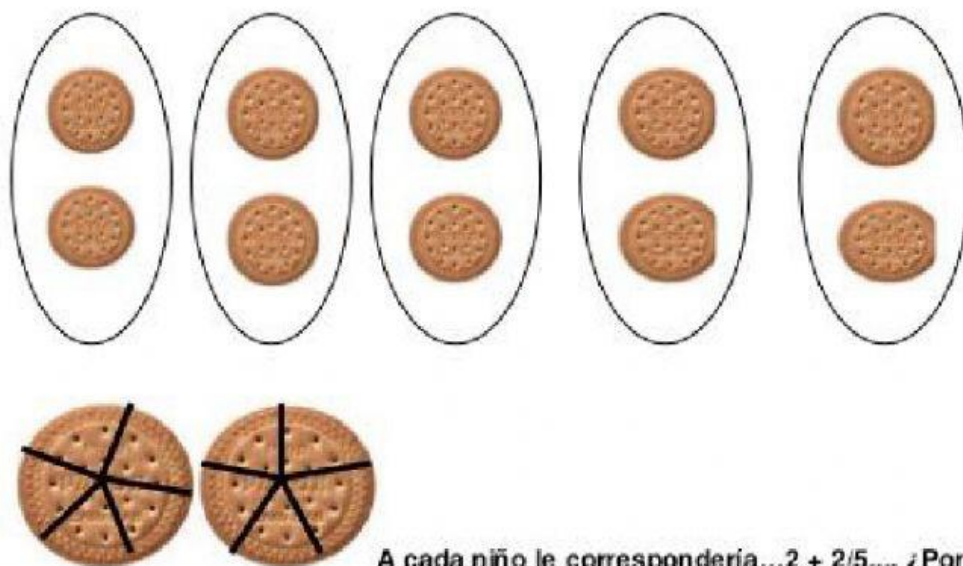





3. ¿Cómo repartirías 12 galletas entre 5 niños?



A cada niño le correspondería... $2 + \frac{2}{5}$ ¿Por qu



TOTAL DE MANZANAS:

TOTAL DE NENES:


CANTIDAD PARA CADA UNO PARA QUE QUEDEN IGUALES:



TOTAL DE ALFAJORES:

CANTIDAD REPARTIDA PARA QUE QUEDEN IGUALES :


TOTAL DE NENES :



TOTAL DE HAMBURGUESAS:

CANTIDAD REPARTIDA PARA QUE QUEDEN IGUALES :

TOTAL DE NENES :





TOTAL DE PANCHOS:

CANTIDAD REPARTIDA PARA QUE QUEDEN IGUALES :

TOTAL DE NENES :