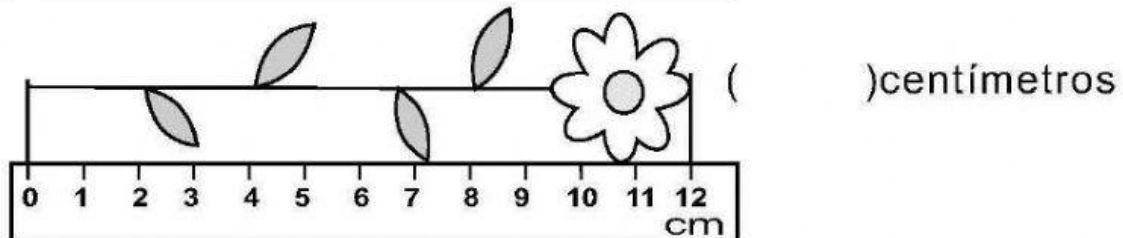
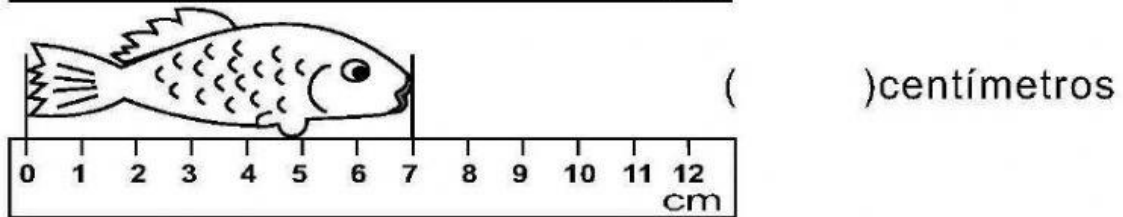
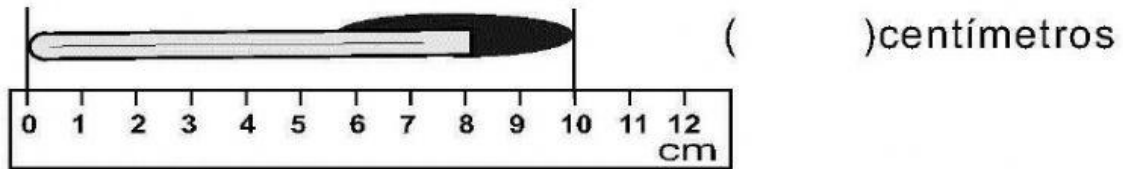


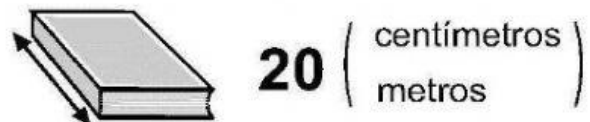
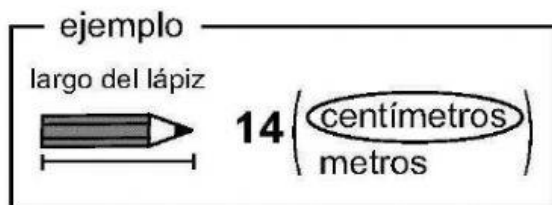
Matemática: Medimos

1 Escribo las medidas.

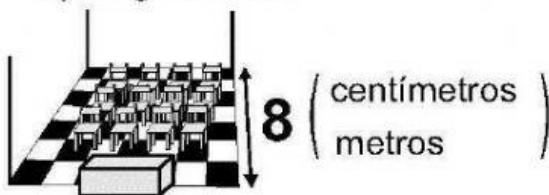


2 Encierro la unidad de medida más adecuada.

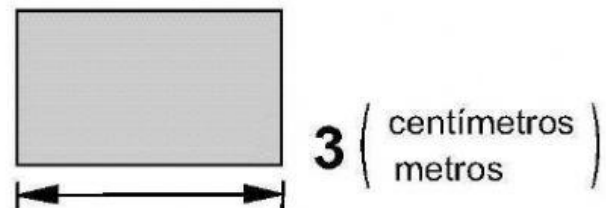
a) largo de libro




b) largo de aula



c) largo de pizarrón



3 Mido el largo de cada línea. Utilizo regla.

a)  () centímetros

b)  () centímetros

c)  () centímetros

¿Cuántos centímetros de largo mide la palma de mi mano?
¿Y el ancho?



Largo de la palma

Estimación () centímetros

Medida () centímetros

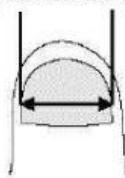
Ancho de la palma

Estimación () centímetros

Medida () centímetros

Estimo y mido lo que me indican.

a) ancho de uña



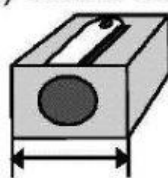
Estimación

() centímetros

Medida

() centímetros

b) ancho de sacapuntas




Estimación

() centímetros

Medida

() centímetros

c) largo de mi lápiz




Estimación

() centímetros

Medida

() centímetros

d) ancho de Guatemala



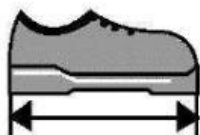
Estimación

() centímetros

Medida

() centímetros

Utilizo mi regla para medir con centímetros.



ejemplo
Largo de mi borrador
Estimación (3) centímetros.
Medida (2) centímetros.

a) Largo de mi dedo índice

Estimación () centímetros

Medida () centímetros

b) Largo de mi zapato

Estimación () centímetros

Medida () centímetros

c) Ancho de mi cuaderno

Estimación () centímetros

Medida () centímetros

- Ahora midan con el metro o la regla algunos elementos de su casa y escriban sus medidas en el cuaderno.