



Colegio Diocesano "Ntra. Sra. de las Nieves"

C. NATURALES 4º EP. TEMA 1 (2ª PARTE):

LOS ECOSISTEMAS.

1. Completa la definición de ecosistema:

➤ Un ecosistema es un entorno natural formado por un conjunto de

que se

entre sí y

con el

que los rodea.

2. ¿A qué ecosistema pertenece cada fotografía?






3. Une con flechas cada animal con el ecosistema en el que vive.



4. Arrastra cada imagen al lugar que le corresponde en la cadena alimentaria.

Diagram 1: A three-step food chain with empty boxes and arrows. Below are three images: a fish, a bear, and grass.

Step 1:  → Step 2:  → Step 3: 







Images:   

Diagram 2: A three-step food chain with empty boxes and arrows. Below are three images: clover, a bear cub, and an ant.

Step 1:  → Step 2:  → Step 3: 












Images:   

Diagram 3: A four-step food chain with empty boxes and arrows. Below are four images: a rabbit, an eagle, grass, and a fox.

Step 1:  → Step 2:  → Step 3:  → Step 4: 

Images:    

5. Completa cómo es la relación entre estos seres vivos en un ecosistema.


➤ Las plantas alimentan a los herbívoros.

➤ Los leones cazan en manada.

➤ Las cebras se agrupan para protegerse.

➤ Los piojos chupan la sangre del perro.

6. Completa el ciclo vital de la mariposa de la seda:



7. Completa el ciclo vital de esta planta:

