




Nama Siswa:

Kelas:

KARAKTERISTIK BIOMA DI DUNIA

Tentukan Benar atau Salah pernyataan berikut:

No	Pernyataan	Benar	Salah
1	 <p>Gambar tersebut merupakan Bioma Taiga yang mempunyai suhu mencapai 90°F atau lebih pada musim panas</p>		
2	Bioma Tundra adalah kawasan yang berada di sekitar Kutub Utara dan sebagian di Selatan yang hampir di setiap wilayahnya ditutupi salju		
3	 <p>Gambar tersebut memiliki Curah hujan rendah yang mencapai 25-50cm/tahun</p>		
4	Bioma Gurun mengalami Evaporasi (penguapan) lebih rendah dari pada presipitasi (hujan)		
5	Sarana yang digunakan sebagai media dalam persebaran fauna adalah udara, air, lahan dan pengangkutan manusia		
6	Faktor Iklim merupakan faktor utama dalam menentukan jenis vegetasi		
7	 <p>Gambar tersebut merupakan penyerbukan tumbuhan melalui hewan secara Internal dengan cara memakan biji yang disebut <i>Edozoik</i></p>		
8	Iklim yang meliputi Cuaca, suhu, kelembapan, dan relief permukaan bumi yang merupakan persebaran Fauna melalui faktor Biotik		
9	Hygrophyta, yaitu jenis-jenis tumbuhan yang sangat sesuai hidup di daerah yang basah, seperti teratai, eceng gondok, dan selada air.		
10	Tropophyta, yaitu jenis-jenis tumbuhan yang dapat beradaptasi terhadap daerah yang mengalami perubahan musim hujan dan musim kemarau. Tropophyta merupakan flora khas wilayah iklim musim tropis, seperti pohon jati dan <i>eucalyptus</i> .		