

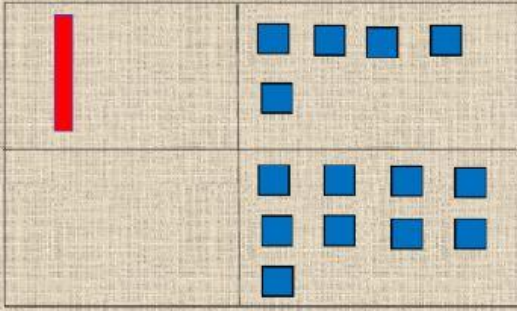
Suma reagrupando

Recuerda iniciar
por las unidades

Práctica: Escucha los audios, para reforzar la clase del día de hoy.

$$15 + 9 =$$

15



9

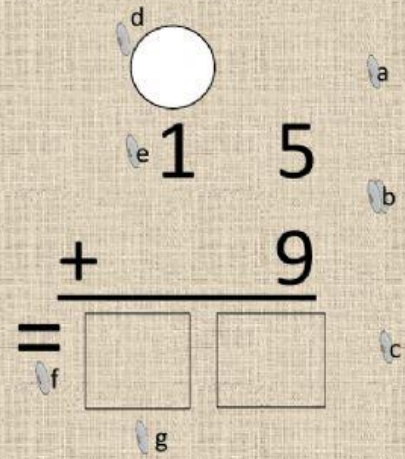
* Coloca la **X** sobre cada **■** (unidad). Y cuenta $9 + 5$

* Resultado: $14 = 1$ decena (**■**) y 4 unidades (**■ ■ ■ ■**).

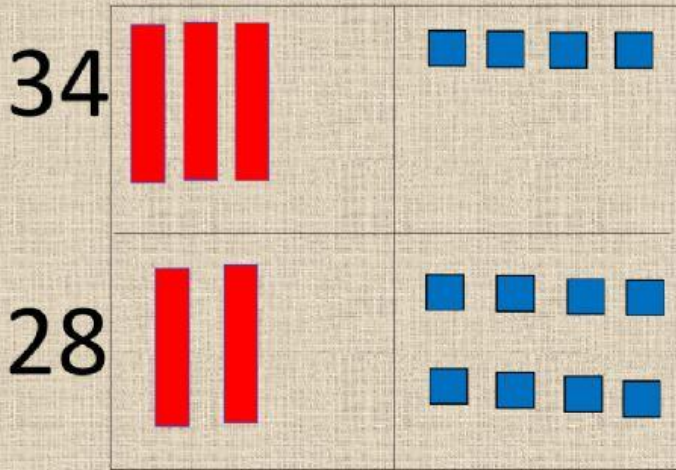
* **Recuerda:** Cada vez que se **forma un grupo de 10** se forma una **decena:** y **cambia de familia.** (Es decir, las **10 unidades**, ya no existen porque se transformó en una decena.

* La decena que se formó al sumar $9 + 5 = (\underline{1} 4)$, se **reagrupa con la otra decena** que ya estaba. (**1** 5) y suma **■ + ■ = ■ ■** Y el resultado sería:

2 4






$$34 + 28 =$$





$$\begin{array}{r} \text{○} \\ 34 \\ + 28 \\ \hline = \square \square \end{array}$$

x x x x x
x x x x x



b) $68 + 7 =$  _____ decenas  _____ unidades $+$  _____ unidades

$=$  _____ decenas  _____ unidades

$=$ _____ decenas _____



$=$ _____

b) $8 + 45 =$ _____ unidades + _____ decenas _____ unidades

$=$ _____ decenas _____ unidades

$=$ _____ decenas _____ unidades

$=$ _____