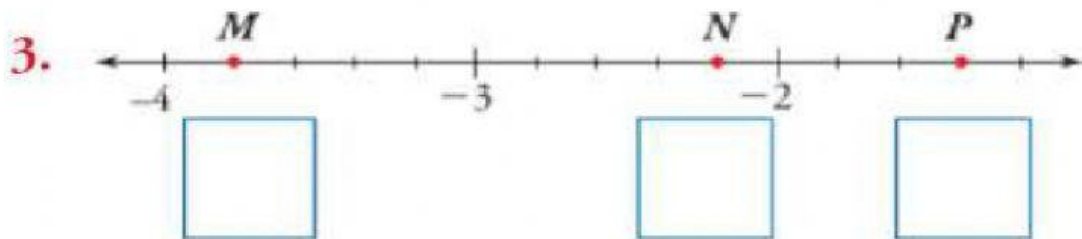
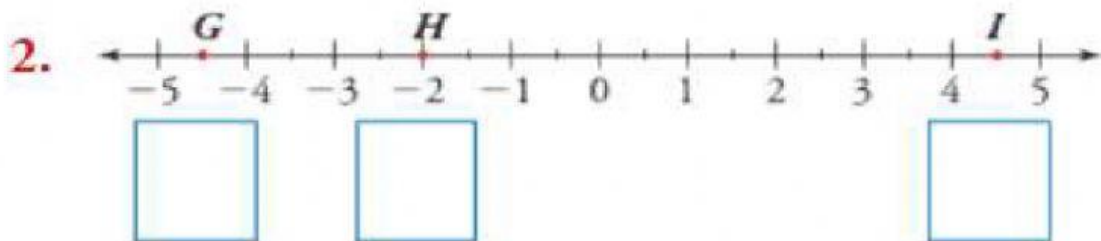
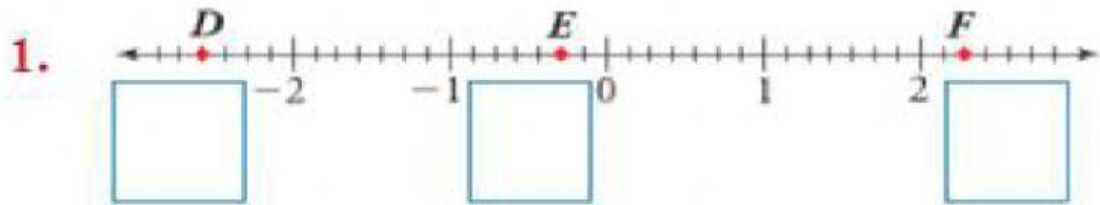


LECCIÓN RECTA NUMÉRICA 8vo

Escribe los números racionales que corresponden a los puntos sobre las rectas numéricas.



Responda verdadero (V) o falso (F) a las siguientes afirmaciones:

El número  $\frac{4}{3}$  está ubicado entre el 0 y 1

El número  $-\frac{9}{4}$  está ubicado entre -3 y -2

El número  $-\frac{15}{4}$  está ubicado entre 3 y 4