

ATIVIDADES DE MATEMÁTICA

MULTIPLICAÇÃO



ARRASTE E SOLTE A RESPOSTA DE:

2×3

8×3

5×2

3×5

4×3

1×6

9×2

2×4

7×3

8×2

6×4

5×4

06

18

24

10

12

24

08

21

16


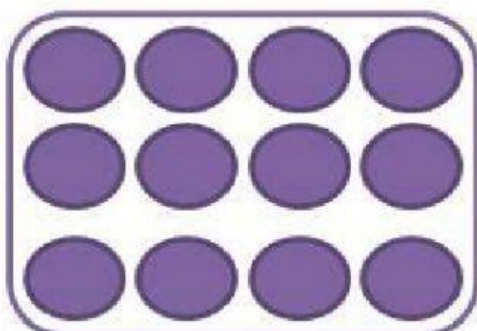


15

06

20



SELECIONE A OPERAÇÃO QUE REPRESENTA AS QUANTIDADES:





ESCOLHA A OPÇÃO QUE CORRESPONDE AO RESULTADO DE:

UMA BICICLETA TEM 2 RODAS. QUANTAS RODAS TEM 6 BICICLETAS IGUAIS A ESSA?

8

6

12

NUMA SALA HÁ 5 FILEIRAS COM 6 CARTEIRAS EM CADA. QUAL TOTAL DE CARTEIRAS DESTA SALA?

30

11

29

GANHO MENSALMENTE R\$ 10, 00 DE MESADA. ESTOU JUNTANDO PARA COMPRAR UM TÊNIS NO MEU ANIVERSÁRIO. JÁ GUARDEI O VALOR DE 5 MESADAS. QUAL O TOTAL QUE JÁ POSSUO?

50

15

5



LIGUE AS OPERAÇÕES QUE REPRESENTAM O MESMO RESULTADO:

$$7+7+7+7$$

$$8 \times 3$$

$$4+4$$

$$3 \times 5$$

$$8+8+8$$

$$6 \times 2$$

$$3+3+3+3+3$$

$$7 \times 4$$

$$6+6$$

$$4 \times 2$$