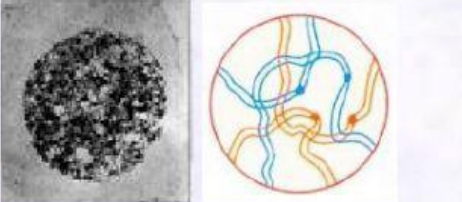
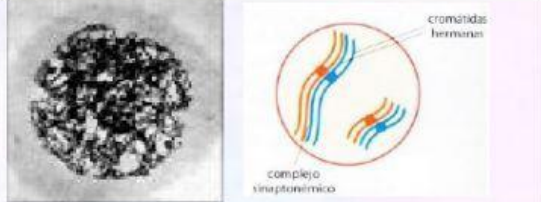
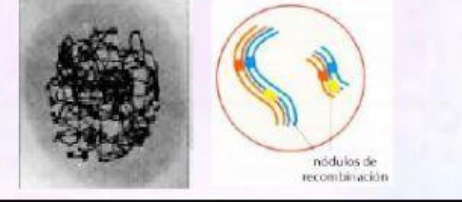

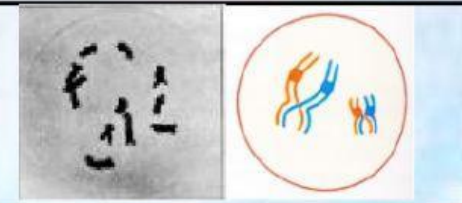
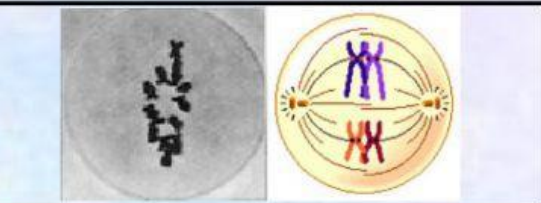
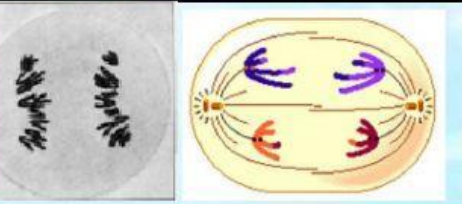
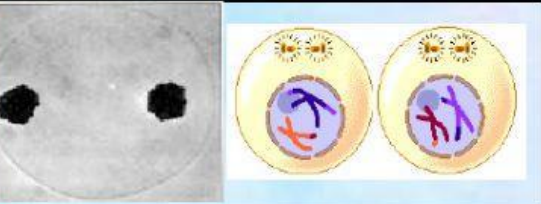


Ficha interactiva N° 1 Meiosis I

Instrucciones:

1. Inicie la actividad cuando se le indique.
2. Una vez terminado acciones el botón TERMINAR.
3. En la ventana que se activa selecciones comprobar mis respuestas.
4. Realice una captura de pantalla y cárguelo al classroom.

- Observe las siguientes imágenes e identifique las estepas de la meiosis I.
- Arrastre cada etapa a su respectiva casilla.

	 <p style="font-size: small; text-align: right;">cromátidas hermanas complejo sinaptonémico</p>
 <p style="font-size: small; text-align: right;">nódulos de recombinación</p>	 <p style="font-size: small; text-align: right;">quiasmas</p>
	
	

Anafase I

Zigoteno

Metafase I

Diploteno

Diacinesis

Telofase I

Leptoteno

Paquiteno