



# 时间与时刻



A) 以数字写出以下的时刻。

1.



2.



3.



4.



5.

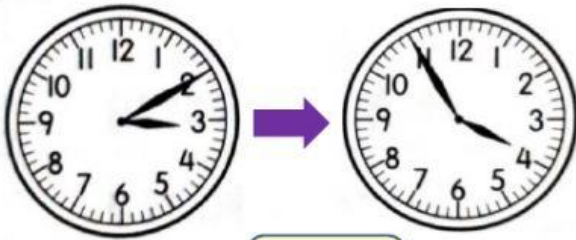


6.



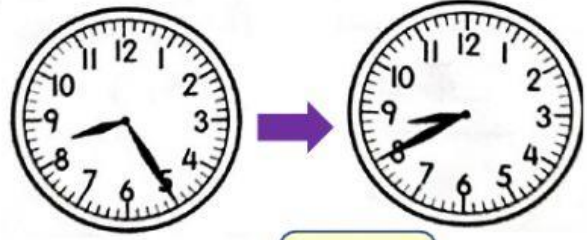
B) 时间过了多久? 填一填。

7



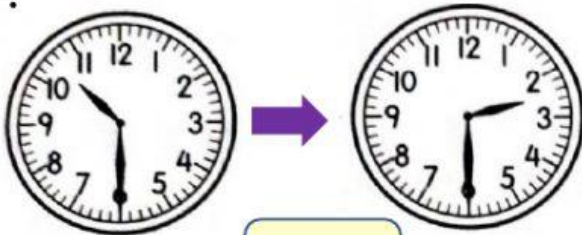
时间过了  分钟

8.



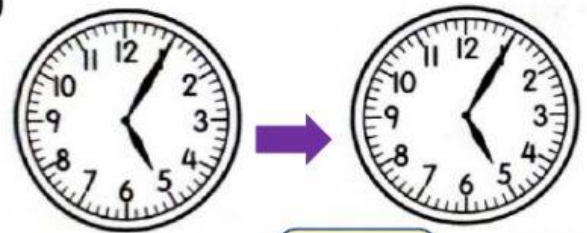
时间过了  分钟

9.



时间过了  小时

10



时间过了  小时