









HISTORIA 1.1

INSTRUCCIONES: Relaciona ambas columnas.

1. Es considerado el periodo más largo de la humanidad.	() Hace 5 millos de años
2. La prehistoria inicia con	() 3500 a.C.
3. Hace cuantos años inicio la prehistoria	() Logró adaptarse físicamente a los distintos medios
4. Suceso que da fin a la prehistoria	() La Prehistoria
5. Aproximadamente la prehistoria terminó alrededor del año	() La invención de la escritura
6. El homo sapiens logró sobrevivir porque	() La aparición de los primeros homínidos.

INSTRUCCIONES: Identifica y anota el nombre de los homínidos correspondientes en la evolución del hombre

Sapiens	Erectus	Sapiens sapiens	Habilis
			
			
Australopithecus	Homo _____	Homo _____	Homo _____