

# AGRUPACIÓN U, D, C, UM

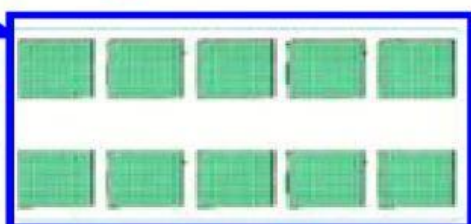

1.- Observa el material Base 10, y arrastra en el tablero posicional donde corresponde. Luego, escribe la cantidad que se formó.



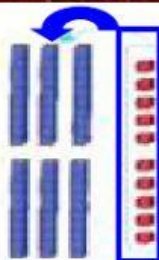


Um	C	D	U



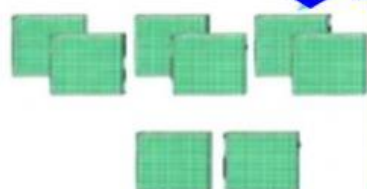

2.- Observa la agrupación de las unidades, decenas o centenas según corresponda y escribe el número en el tablero posicional.



Um	C	D	U



Um	C	D	U



Um	C	D	U

**¡TÚ PUEDES!**