

## CONTROL DE CIENCIAS NATURALES UNIDAD 1

NOMBRE Y APELLIDOS: .....FECHA: .....

1 Señala la respuesta correcta para cada cuestión.

a) ¿De qué aparato forma parte el páncreas?

- ☐ Del aparato digestivo.
- ☐ Del aparato respiratorio.
- ☐ Del aparato circulatorio.
- ☐ Del aparato excretor.

b) ¿Qué nombre recibe el proceso para tomar el oxígeno y eliminar el dióxido de carbono?

- ☐ Digestión.
- ☐ Respiración.
- ☐ Excreción.
- ☐ Circulación.

c) ¿Qué aparato se encarga de transportar las sustancias por el organismo?

- ☐ El aparato excretor.
- ☐ El corazón
- ☐ El aparato digestivo
- ☐ El aparato circulatorio

d) ¿A qué grupo de alimentos pertenece la leche?

- ☐ Energéticos.
- ☐ Constructivos.
- ☐ Reguladores.

e) ¿Cuándo hay que lavarse las manos?

- ☐ Sobre todo, antes y después de comer.
- ☐ Sobre todo, antes de comer.
- ☐ Sobre todo, después de comer.

f) ¿De qué se encarga la función de nutrición?

- ☐ Se encarga de tener descendientes.
- ☐ Se encarga de respirar, alimentarnos, transportar y expulsar las sustancias de desecho.
- ☐ Se encarga de notar los cambios que ocurren a nuestro alrededor.

g) ¿Qué es la dieta?

- ☐ Es evitar comer grasas.
- ☐ Es el conjunto de alimentos y agua que toma una persona.
- ☐ Es hacer 5 comidas al día.

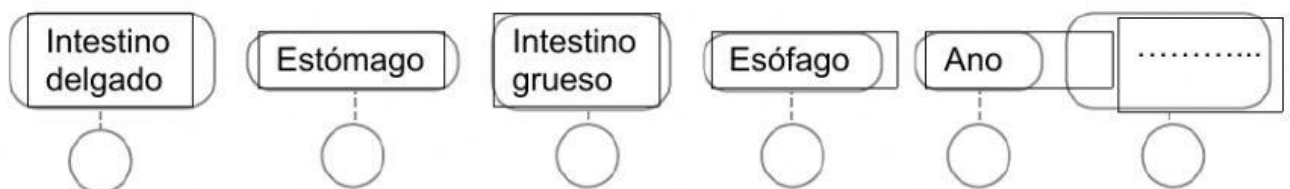
2 ¿Cuáles son las tres funciones vitales? Nómbralas y explícalas.

\* Función de

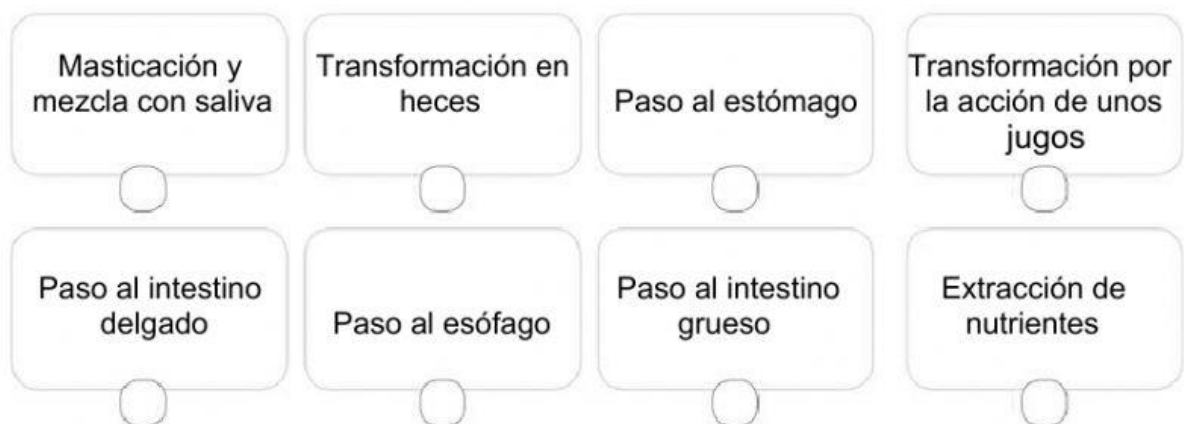
\* Función de

\* Función de

3 Numera las partes del aparato digestivo siguiendo el orden del recorrido de los alimentos en la digestión y escribe el nombre de la parte que falta.



4 Ordena las fases en las que se produce la digestión.



5 ¿Qué diferencias hay entre las arterias, las venas y los capilares?

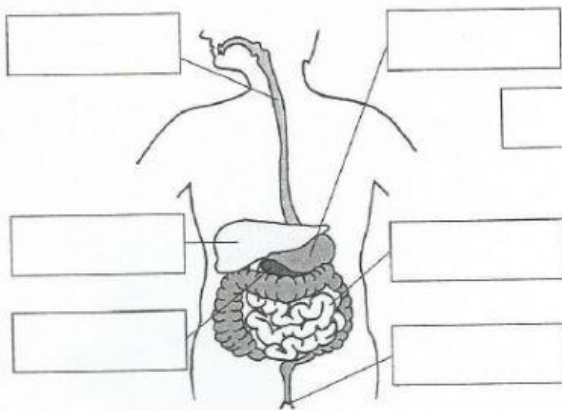
6 Clasifica los siguientes grupos de alimentos según sean energéticos, constructivos o reguladores:



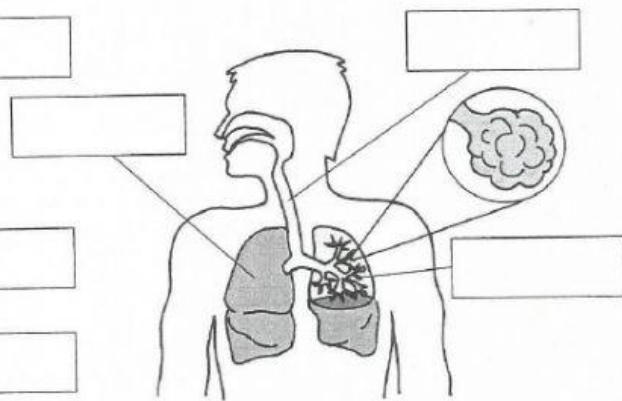
7 Completa:

1. Pon los nombres de los órganos en sus lugares correspondientes y escribe debajo de cada esquema el nombre del aparato.

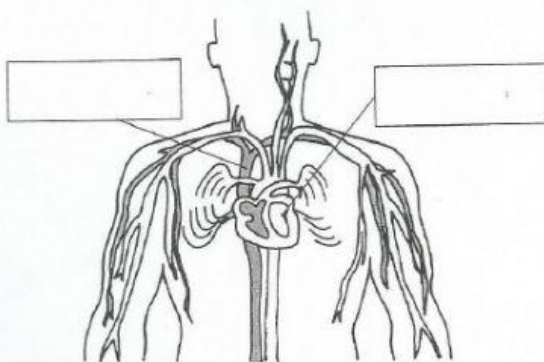
esófago	estómago	hígado	páncreas	intestino	ano	corazón
vaso sanguíneo	pulmón	tráquea	bronquio	riñón	vejiga	



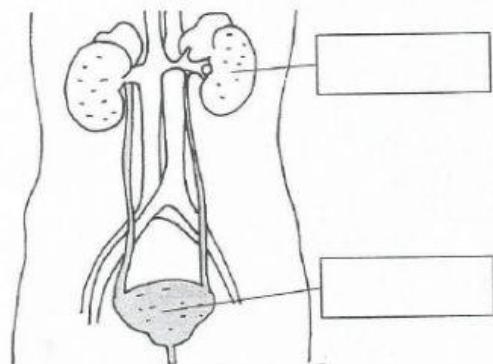
Aparato \_\_\_\_\_



Aparato \_\_\_\_\_



Aparato \_\_\_\_\_



Aparato \_\_\_\_\_