


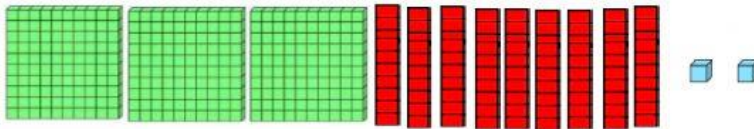


Las Centenas


1. Observa las formas y escribe la cantidad que representan. No olvides las mayúsculas



C	D	U



C	D	U



C	D	U

2. Ubica los números de acuerdo al valor posicional que indica cada letra (U- unidades, D- decenas, C- centenas):

5U, 3C, 4D →

2D, 3C, 2U →

1U, 6D, 8C →

5D, 4C, 9U →

5U, 7C, 1D →

0U, 1D, 8C →

C	D	U

3. Resuelve las operaciones:

c	d	u
5	5	3
- 2	- 2	- 8

c	d	u
5	1	9
+ 2	+ 3	+ 6

c	d	u
7	8	7
- 2	- 5	- 4

c	d	u
1	6	6
+ 3	+ 1	+ 8

4. Escribe las cantidades en número:

Ciento veintitrés :

Novecientos treinta y cuatro :

Seiscientos nueve :

Doscientos dieciocho :

Ciento catorce :

Ochocientos sesenta y dos :

Quinientos ochenta y uno :

Setecientos cuarenta y ocho :

5. Escribe las equivalencias en unidades (5U=5, 6D=60, 7C=700)

3U = 5C = 8D =

4D = 9U = 7C =

9C = 3U = 6D =

1D = 3C = 2U =

7U = 4D = 9C =