


ALIMENTAÇÃO DOS ANIMAIS

1. Associe as colunas.

A herbívoros	<input type="checkbox"/> alimentam-se de outros animais.
B carnívoros	<input type="checkbox"/> alimentam-se de vegetais e outros animais.
C onívoros	<input type="checkbox"/> alimentam-se de vegetais.


2. Classifique em **herbívoro**, **carnívoro** ou **onívoro**.



leão

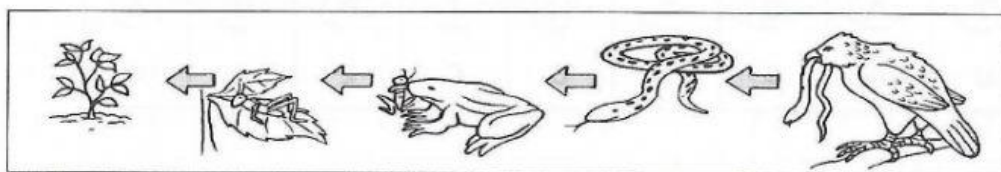


ser humano



cavalo

3. Observe esta cadeia alimentar.



a) Qual dos seres vivos acima fabrica o seu próprio

b) Do que cada animal se alimentou na cadeia acima?

gafanhoto	sapo	serpente	gavião