






VALORES DESCONOCIDOS....A PENSAR...!!

En cada una de las imágenes que se muestran a continuación debes completar el valor del resultado correcto de la última operación, para ello, primeramente, debes obtener el valor de cada uno de los objetos que se encuentran involucrados.


$$\begin{array}{rcl} \text{Green Pentagon} & + & \text{Green Pentagon} = 10 \\ \text{Cyan Pentagon} & + & \text{Green Pentagon} = 7 \\ \text{Orange Pentagon} & - & \text{Cyan Pentagon} = 4 \\ \text{Green Pentagon} & + & \text{Orange Pentagon} = \end{array}$$



$$\begin{array}{rcl} \text{Apple} & + & \text{Apple} + \text{Apple} = 30 \\ \text{Apple} & + & \text{Banana} + \text{Banana} = 18 \\ \text{Banana} & - & \text{Coconut} = 2 \\ \text{Coconut} & + & \text{Apple} + \text{Banana} = \end{array}$$


$$\begin{array}{rcl} \text{Gray Polygon} & + & \text{Gray Polygon} + \text{Gray Polygon} = 45 \\ \text{Banana} & + & \text{Banana} + \text{Gray Polygon} = 23 \\ \text{Banana} & + & \text{Clock} + \text{Clock} = 10 \\ \text{Clock} & + & \text{Banana} + \text{Banana} \times \text{Gray Polygon} = \end{array}$$