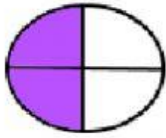
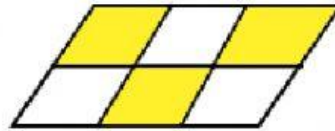



FRACCIONES

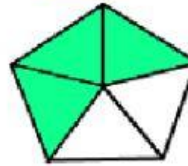
NOMBRES Y APELLIDOS: _____

1. ¿Qué fracción representa la parte sombreada?

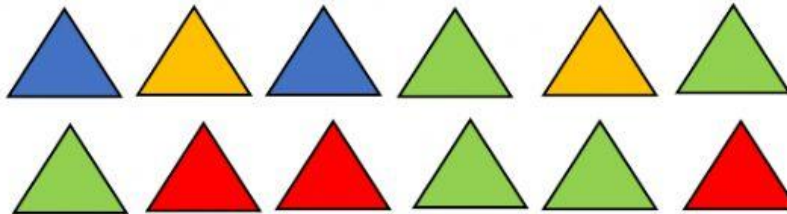








2. ¿Qué fracción de los triángulos no son verdes?



3. Escribe P (si es fracción propia) o I (si es fracción impropia).

$$\frac{4}{8} \quad \boxed{}$$

$$\frac{7}{2} \quad \boxed{}$$

$$\frac{1}{10} \quad \boxed{}$$

$$\frac{9}{18} \quad \boxed{}$$

$$\frac{12}{5} \quad \boxed{}$$

$$\frac{11}{10} \quad \boxed{}$$

$$\frac{3}{13} \quad \boxed{}$$

$$\frac{7}{15} \quad \boxed{}$$

4. Escribe cómo se lee cada fracción.

$$\frac{2}{3} \quad \boxed{\phantom{\text{dos tercios}}}$$

$$\frac{3}{6} \quad \boxed{\phantom{\text{tres sextos}}}$$

$$\frac{4}{8} \quad \boxed{\phantom{\text{cuatro octavos}}}$$

4. Relaciona ambas columnas.

$$\frac{7}{3}$$

$$\frac{10}{4}$$

$$\frac{5}{2}$$

