

# E-LKPD

- GEOGRAFI XI/GASAL
- MAN 2 REMBANG

## Sub materi

Klasifikasi SDA & Potensi dan persebaran SDA

KD 3.4 Menganalisis sebaran dan pengelolaan sumber daya kehutanan, pertambangan, kelautan, dan pariwisata sesuai prinsip-prinsip pembangunan berkelanjutan

NAMA :

KELAS :

### 1. Sumber daya alam berdasarkan sifatnya.

Gambar berikut termasuk dalam sumberdaya alam....

(dengan memindahkan/drag & drop nama ke kolom kosong)



Batu bara



Matahari

Melimpah/tidak terbatas

Dapat diperbaharui




Tidak dapat diperbaharui

### 2. Pilihlah Sumberdaya alam yang benar berdasarkan jenisnya!

(dengan memberi tanda checklist (✓) pada setiap sumberdaya yang benar!)

Sumberdaya alam berdasarkan jenis	Sumberdaya alam	
Hayati	Batu marmer	Pohon Mangga
	Sapi	Udara
Non hayati	Air	Gas alam
	Pohon Kelapa	Ayam

3. Cocokkanlah sumber daya alam berdasarkan potensi berikut dengan tepat!  
(dengan cara berilah anak panah pada kotak yang benar!)

Sumberdaya alam	Klasifikasi sumberdaya alam
 <p><b>Emas</b></p>	<div>Sumber daya alam Energi</div>
 <p><b>Minyak Bumi</b></p>	<div>Sumber daya alam materi</div>
 <p><b>Area tanah</b></p>	<div>Sumber daya alam hayati</div>
	<div>Sumber daya alam terestrial</div>
	<div>Sumber daya alam ruang</div>

4. Pilihlah Sumberdaya alam yang benar berdasarkan tempatnya!  
(mengisi kolom yang kosong dengan memindahkan/drag&drop jawaban sesuai klasifikasi yang tepat!)

Definisi/pengertian	Nama sumberdaya
sumberdaya alam yang ada di daratan misal: tanah, batu, kayu dll	
sumberdaya alam yang berasal dari air atau laut misal: ikan, rumput laut, terumbu karang dll.	

Sumberdaya alam Terrestrial

Sumberdaya alam kehutanan

Sumberdaya alam kelautan

Sumberdaya alam aquatic

## 5. Sumberdaya alam berdasarkan UU No. 11 th 1976

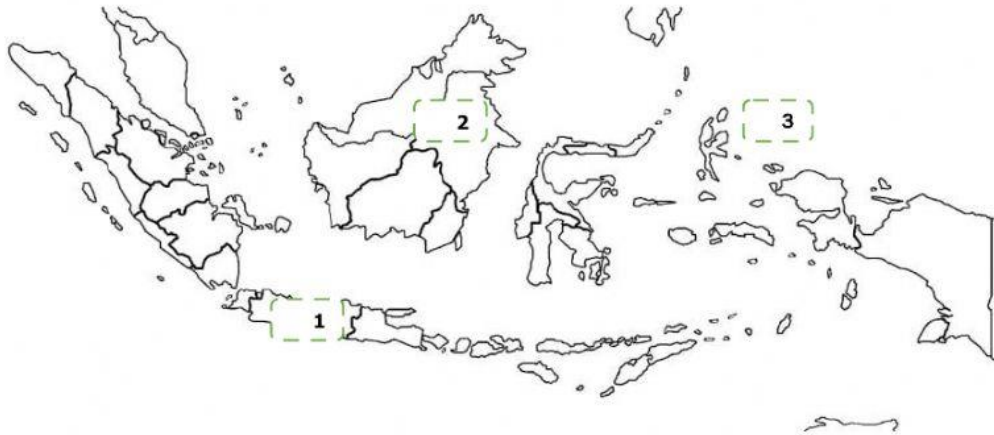
(isilah kolom yang kosong dengan memindahkan/drag&drop jawaban sesuai klasifikasi yang tepat!)

Golongan A	Golongan B	Golongan C
Belerang	Minyak Bumi	Batu Andesit
Perak	Uranium	Pasir

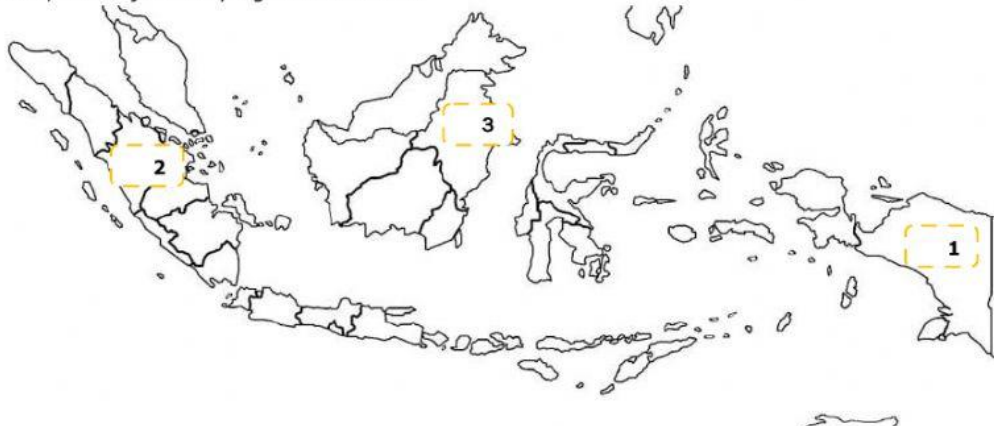
## 6. Potensi dan Persebaran sumberdaya alam

(dengan memberi tanda checklist (✓) pada lokasi di peta yang benar!)

Persebaran sumberdaya alam kehutanan berupa rempah-rempah berada di hutan maluku, berikut jawaban yang benar adalah....

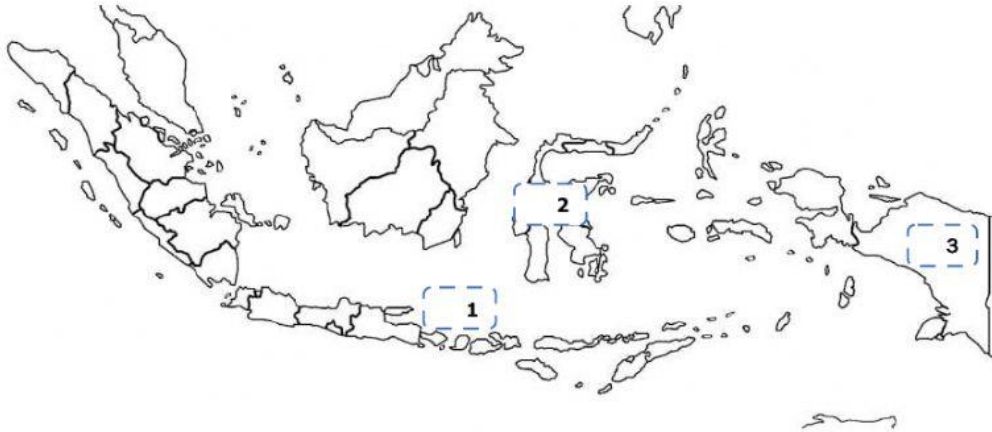


Persebaran sumberdaya alam pertambangan berupa batu bara salah satunya berada di Kalimantan timur, berikut jawaban yang benar adalah....

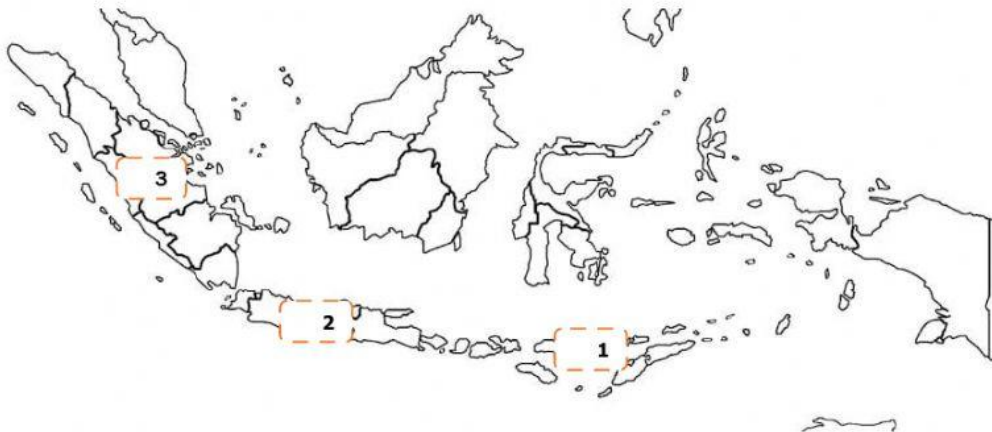




Persebaran sumberdaya alam kelautan berupa terumbu karang salah satunya berada di papua berikut jawaban yang benar adalah....



Persebaran sumberdaya alam pariwisata berupa candi borobudur berada di jawa tengah berikut jawaban yang benar adalah....



**PENTING!!!**

**NB.** Setelah selesai mengerjakan silahkan **KLIK FINISH** kemudian pilih **CHECK MY ANSWER** , cek nilai kalian di halaman awal dekat nama dan kelas kalian, screenshot nilai kalian (harus terlihat nama dan kelasnya) dan kirim foto Screenshotan ke tugas teams

***---Good Luck---***