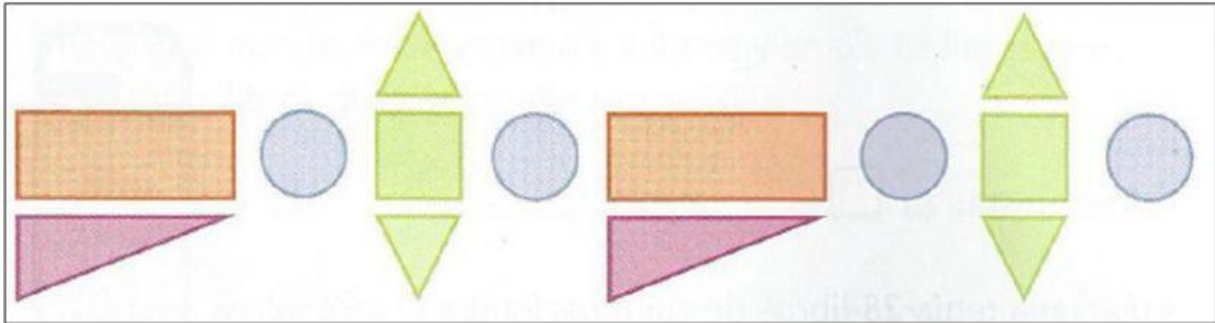



# DÍA 3

✚ OBSERVA LAS SIGUIENTES IMÁGENES, ESCRIBE EL NOMBRE DE CADA UNA Y LA CANTIDAD.



FIGURAS	NOMBRE	CANTIDAD
		
		
		
		

✚ COMPLETA CON EL NOMBRE DE LA FIGURA GEOMETRICA, CANTIDAD DE LADOS Y VERTICES.



LADOS

VÉRTICES




LADOS

VÉRTICES



LADOS

VÉRTICES



LADOS

VÉRTICES