


## DÍA 2

✚ OBSERVAMOS LAS SIGUIENTES FIGURAS GEOMÉTRICAS Y SUS NOMBRES.



✚ LOS CHICOS DE 3º HICIERON CARTELES PARA COLOCAR EN EL AULA.



✚ ESCRIBE EL NOMBRE DE LA FIGURA GEOMÉTRICA QUE CORRESPONDE:

✚ ¿QUÉ FIGURA GEOMÉTRICA DIBUJÓ **ANDRÉS**?

---

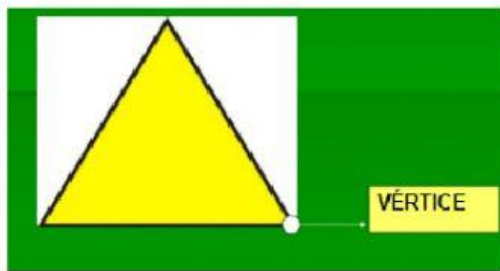
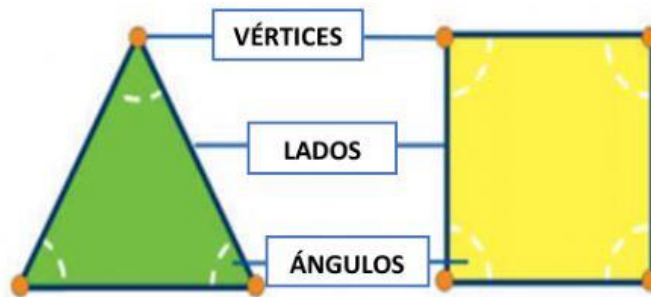
✚ ¿CÓMO SE LLAMA LA FIGURA GEOMÉTRICA, QUE DIBUJÓ **PABLO**?

---

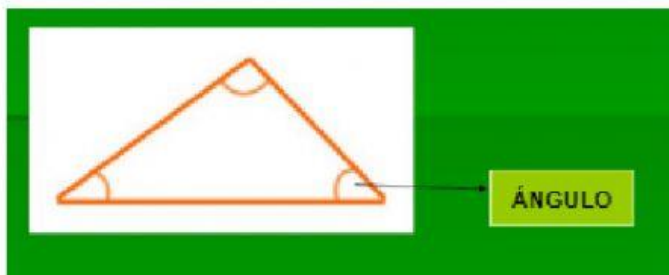
🌟 **MALENA** ¿DIBUJÓ UN RECTÁNGULO? ¿SI O NO? ¿QUÉ FIGURA DIBUJÓ?

---

🔧 **ELEMENTOS DE LAS FIGURAS GEOMÉTRICAS:**




UN PUNTO, DONDE 2 O  
MÁS LINEAS SE  
ENCUENTRAN, ESQUINA.



ÁNGULO, ES UNA FIGURA  
FORMADA POR 2 O MÁS  
LINEAS QUE PARTEN DE UN  
MISMO PUNTO.

🔧 **CUENTA LOS LADOS DE LAS FIGURAS Y MARCA EL QUE CORRESPONDE:**

**CUADRADO**




2

4

3

**CÍRCULO**



0

1

6

**ROMBO**




6

8

4

**TRIÁNGULO**



3

4

1