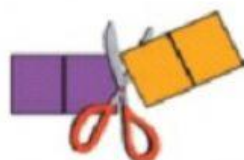


Доповни записи за малюнками.




$2 + \square = \square$



$4 - \square = \square$

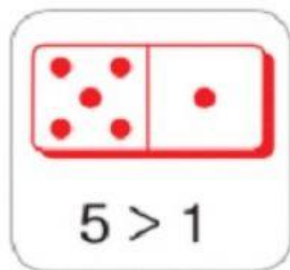


$\square + \square = \square$



$\square - \square = \square$

Порівняй кількість крапочок зліва і справа на кісточках доміно. Зроби відповідні записи.



$5 > 1$




$\square \circ \square$



$\square \circ \square$

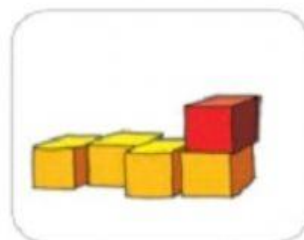


$\square \circ \square$



$\square \circ \square$

Обери для кожного малюнка відповідний запис.



$5 - 2$

$4 + 1$

$5 - 4$