

Guía formativa			
TEACHERS	Erika Campos Salgado, Verónica Oróstica, María Elena Hermosilla.	UNIT	2
Worksheet N° 5	Historia Geografía.	GRADE	2 nd
IAM	<p>OA 8: Clasificar y caracterizar algunos paisajes de Chile según su ubicación en la zona norte, centro y sur del país, observando imágenes, utilizando diversas fuentes y un vocabulario geográfico adecuado (océano, río, cordillera de los Andes y de la Costa, desierto, valle, costa, volcán, archipiélago, isla, fiordo, lago, ciudad y pueblo, entre otros).</p> <p>OA 1: Describir los modos de vida de algunos pueblos originarios de Chile en el período precolombino, incluyendo ubicación geográfica, medio natural en que habitaban, vida nómada o sedentaria, roles de hombres y mujeres, herramientas y tecnología, principales actividades, vivienda, costumbres, idioma, creencias, alimentación y fiestas, entre otros.</p>	DATE	26 TH .10.2020

INSTRUCTIONS

- ✦ Antes de realizar la guía, revisar la presentación y explicación de los contenidos tratados.
- ✦ Desarrolla las actividades propuestas en tu cuaderno, de manera digital o en el material impreso entregado.
- ✦ Enviar el documento con su desarrollo al profesor correspondiente para su posterior retroalimentación.



ACTIVITIES

1.- Read and answer

El relieve es la forma que tiene la superficie de la Tierra en relación con sus alturas, por ejemplo, si es un terreno plano o con alturas como cerros o montañas. El elemento más característico del relieve chileno es la cordillera de los Andes. Es una cadena de montañas que recorre el país de norte a sur en el lado este y que marca el límite con Argentina. Es la segunda cordillera más alta del mundo. Esta cordillera cambia a lo largo de Chile: en la Zona Norte es muy alta y va bajando su altura hacia el sur, y se caracteriza por poseer muchos volcanes. La cordillera de los Andes es de gran importancia para Chile debido a que:

- Es una fuente de agua.
- Contiene gran cantidad de minerales, por ejemplo el cobre.
- Es un lugar turístico.

1.- ¿Cuál es el elemento más característico del relieve chileno?

2.- ¿Cómo es la cordillera de los Andes a lo largo de Chile?

3. ¿Cuál es la importancia de la cordillera de los Andes?

2.-Choose the correct option.

1.- ¿En qué continente se encuentra nuestro país?

- a) América
- b) Asia
- c) Oceanía

2.- ¿Cuáles son los países que limitan con Chile?

- a) Perú- Brasil-Bolivia
- b) Argentina- Perú –Bolivia
- c) Bolivia-Venezuela- Colombia

3.- ¿Cuál es el Océano que rodea las costas de nuestro País?

- a) Océano Atlántico
b) Océano Pacífico
c) Océano Índico

4.- ¿En qué zona del territorio Chileno es clima es Cálido, más bien árido, generalmente no llueve, hace Calor durante todo el año?

- a) Zona Central
b) Zona Sur
c) Zona Norte

5.- ¿En zona de Chile el clima es más bien frio, llueve prácticamente todo el año y su vegetación es muy abundante?

- a) Zona sur
- b) Zona Norte
- c) Zona Centro

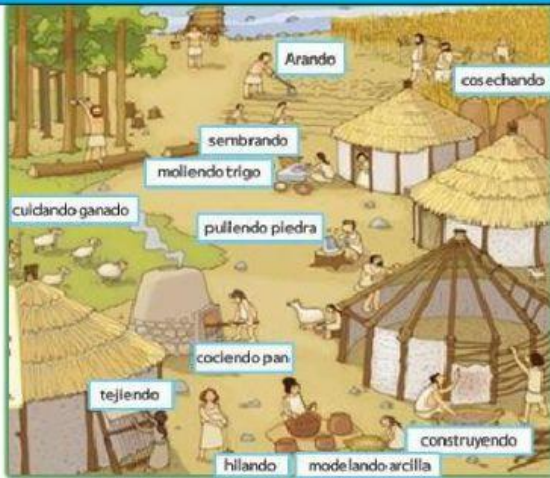
6.- ¿En qué zona de nuestro país el clima es templado, llueve y hace frío en invierno. En verano disfrutamos de mucho sol y calor?

- a) Zona Central
b) Zona Sur
c) Zona Norte



4.- CHOOSE THE CORRECT OPTION.

<p>Donde vivieron los mapuche :</p> <p>a) zona central</p> <p>b) zona austral</p> <p>c) zona norte</p>	<p>¿Cómo se llamaban la vivienda de los mapuches y de qué están hechas? :</p> <p>a) Chozas construidas con paja y palos.</p> <p>b) Rucas construidas con paja y palos.</p> <p>c) Pukaras construidas con piedras, paja y palos</p>
<p>¿Cuál es la actividad más importante de los pueblos sedentarios?</p> <p>a) caza</p> <p>b) pesca</p> <p>c) agricultura</p>	<p>¿En qué zona habitaban los changos?</p> <p>a) Zona Norte</p> <p>b) Zona centro</p> <p>c) zona sur</p>
<p>¿Qué pueblo cultivaba en terrazas?</p> <p>a) Diaguitas</p> <p>b) Atacameños</p> <p>c) Changos</p>	<p>¿Qué pueblo habitaban en Tierra de Fuego?</p> <p>a) Atacameños</p> <p>b) Mapuches</p> <p>c) Onas</p>

5. MATCH.



nómadas



sedentario