

Nombre:

Fecha:

CIRCUNFERENCIA Y CÍRCULO ELEMENTOS

Mira atentamente el vídeo.



Ponles nombre.

Radio.

Diámetro.

Círculo.

Centro.

Circunferencia.

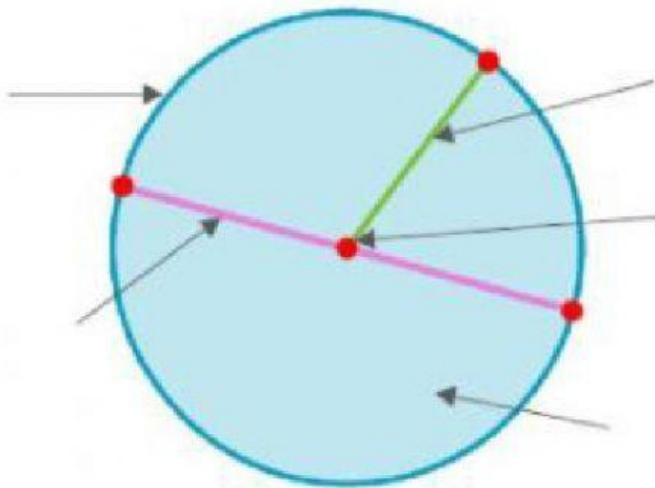
Es una **línea curva cerrada** en la que todos sus puntos están a la misma distancia de un punto llamado centro.

Es una **figura plana** formada por una circunferencia y su interior.

Es un **punto** que está a la misma distancia de cada punto de la circunferencia.

Es el **segmento** que une el centro con un punto de la circunferencia.

Es el **segmento** que une dos puntos de la circunferencia pasando por el centro.



Circunferencia

Círculo

Radio

Centro

Diámetro

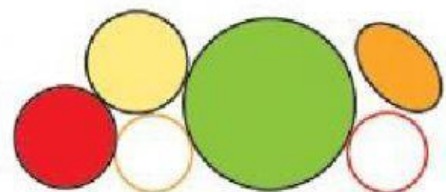
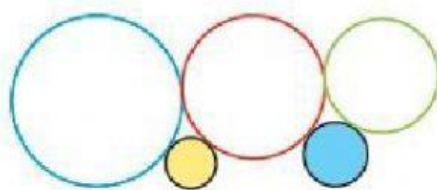
✚ ¿Cuál de estos objetos es un círculo?



✚ ¿Cuál de estos objetos es una circunferencia?



✚ Cuenta y escribe cuántas circunferencias y círculos forman cada figura.



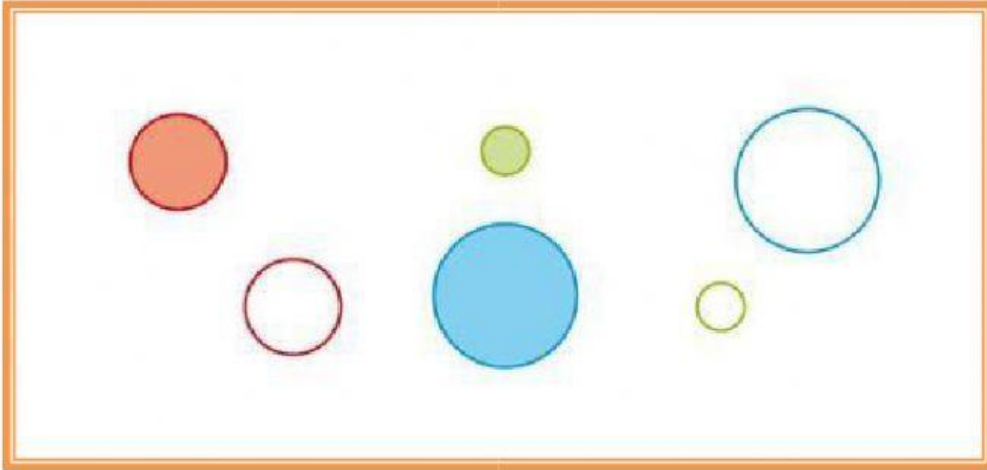
Circunferencias ➤

Círculo ➤

Circunferencias ➤

Círculo ➤

✚ Une cada círculo con su circunferencia



✚ ¿Dónde hay más circunferencias?

