

NÚMEROS ENTEROS

1. Resuelve:

- Un halcón volaba a 50 m de altura. Descendió 15 m para capturar una presa. ¿A qué altura estaba volando la presa?

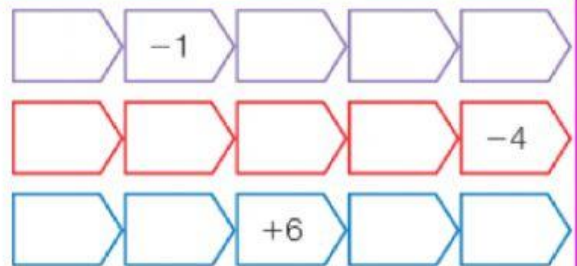
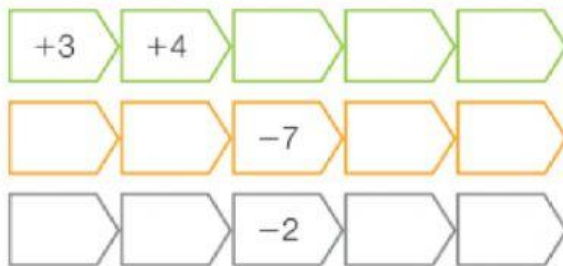
- Un buzo se lanza desde la cubierta de un barco situada a 2 m de altura y baja 8 m hasta un arrecife para hacer fotos. ¿A qué profundidad está el arrecife?

2. Completa las oraciones:

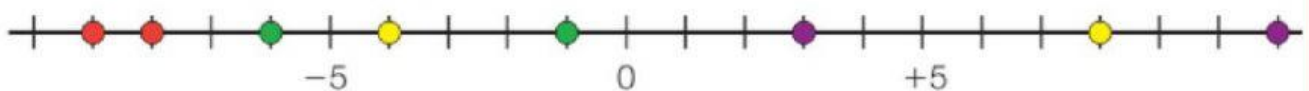
Los números positivos están a la _____ del 0.

Los números negativos están a la _____ del 0.

3. Completa las series:



4. Observa y contesta:



- Los puntos rojos representan los números _____ y _____.
El número mayor de los dos es _____
- Los puntos verdes representan los números _____ y _____.
El número menor de los dos es _____
- Los puntos amarillos representan los números _____ y _____.
El número mayor de los dos es _____
- Los puntos morados representan los números _____ y _____.
El número menor de los dos es _____