

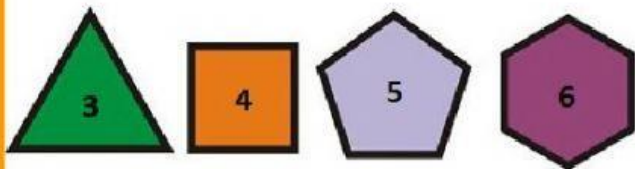
POLÍGONOS REGULARES



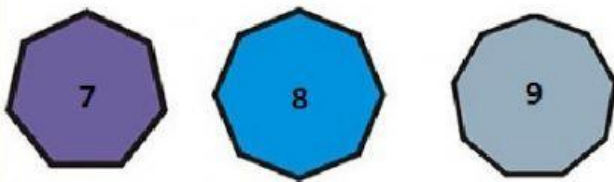
OBSERVA BIEN EL NOMBRE DE CADA POLÍGONO REGULAR
Y ESCRIBE SUS NOMBRES TRES VECES.




Fíjate bien en su ortografía y en sus acentos, al terminar, dale click en
"TERMINADO" al final de la hoja.



triángulo cuadrado pentágono hexágono



heptágono octágono eneágono



decágono endecágono dodecágono

triángulo

hexágono

cuadrado

heptágono

pentágono

octágono

eneágono

decágono

endecágono

dodecágono