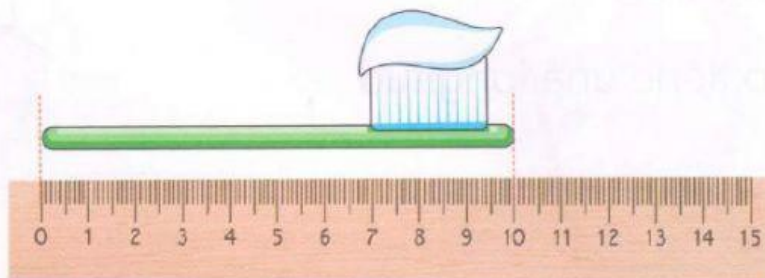


# Unidades convencionales de longitud en artículos de aseo personal

## El centímetro

Anita quiere saber cuántos centímetros mide su cepillo.



Rpta. El cepillo de Anita mide **10 centímetros**.

El **centímetro (cm)** nos ayuda a medir la longitud de objetos pequeños.



## Saberes y conocimientos

Observemos las imágenes y escribamos cuánto miden los siguientes objetos:




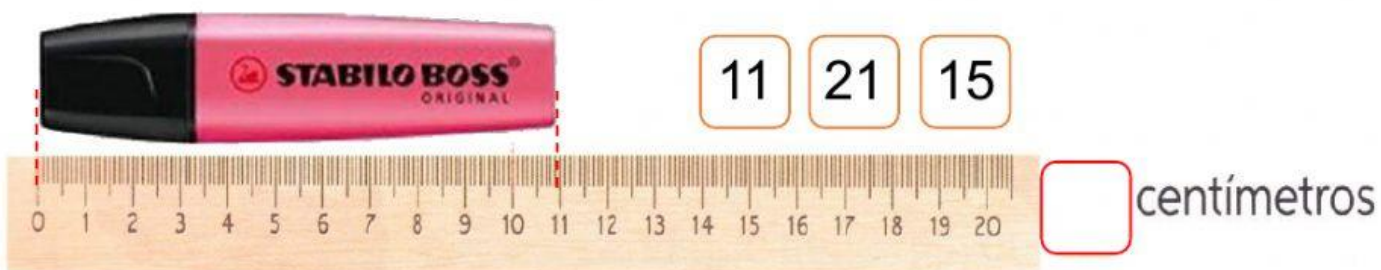

**12** centímetros



**10** centímetros

# PRACTICAMOS

Observamos las imágenes y arrastramos la medida correcta al cuadro rojo





## El metro

Observemos las siguientes medidas:

El árbol tiene una altura

de **4** metros.

El asiento tiene una longitud

de **3** metros.

4 metros



3 metros

El metro (m) nos ayuda a medir la longitud de objetos grandes.

## PRACTICAMOS



### Saberes y conocimientos

Relacionemos con una flecha la imagen con la unidad de medida empleada para su medición.



centímetro



metro

