

MATEMÁTICAS


ESCUCHA LOS SIGUIENTES PROBLEMAS
MATEMÁTICOS Y SELECCIONA LA OPERACIÓN
MATEMÁTICA QUE LOS PUEDE RESOLVER, LUEGO
REALIZA LA OPERACIÓN Y RESUELVE.



Tengo



Me regalaron



¿Cuántos juguetes tengo?

OPERACIÓN




SUMA




RESTA



Compré



y también:



¿Cuántas frutas compré?

OPERACIÓN



SUMA




RESTA



Tenía



Regalé



OPERACIÓN

¿Cuántos globos me quedan?



SUMA



RESTA



Diego compra 8 palomas pero se le mueren 4. ¿Cuántas palomas le quedan?

OPERACIÓN



SUMA



RESTA



María tiene 2 manzanas, 3 naranjas y 5 plátanos. ¿Cuántas frutas tiene en total?

OPERACIÓN



SUMA



RESTA



Pepe tiene 4 bolitas, 3 carritos y 1 caballo. ¿Cuántos juguetes tiene?

OPERACIÓN

 SUMA

 RESTA



Juan compró 2 chicles, 6 caramelos y 1 chocolate. ¿Cuántas golosinas tiene?

OPERACIÓN

 SUMA

 RESTA



Renato tiene 7 patos pero se le mueren 2. ¿Cuántos patos le quedan?

OPERACIÓN

 SUMA

 RESTA