


# Demuestro lo que aprendí – Doble y triple

1. Escribe en los paréntesis V o F según corresponda.


El doble de  es   .....( )


El triple de  es   .....( )

2. Calcula el doble y triple de cada número.





**2**

Doble 

Triple 

**5**

Doble 

Triple 

3. Lee atentamente el siguiente problema y completa los espacios:

Juanita recibió el doble de flores amarillas y el triple de flores rosas.



¿Cuántas flores amarillas recibió?

Recibió \_\_\_\_\_ flores amarillas.

¿Cuántas flores rosas recibió?

Recibió \_\_\_\_\_ flores rosas.

