

UNIDAD EDUCATIVA "JULIO VERNE"

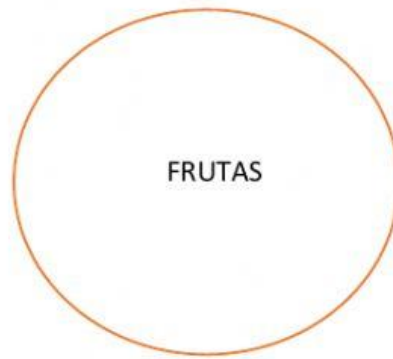
LECCIÓN DE MATEMÁTICAS

Nombre:

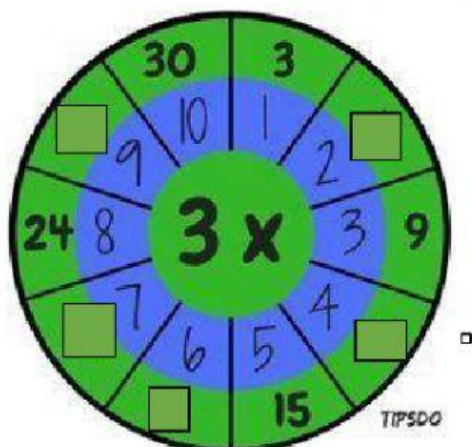
Fecha:

Instrucción: leer las preguntas y resolver correctamente.

1.- Identifique el conjunto con una *C* si está determinado por comprensión y *E* si está determinado por extensión.

☐☐

2.- Completar la ruleta de la tabla del 3

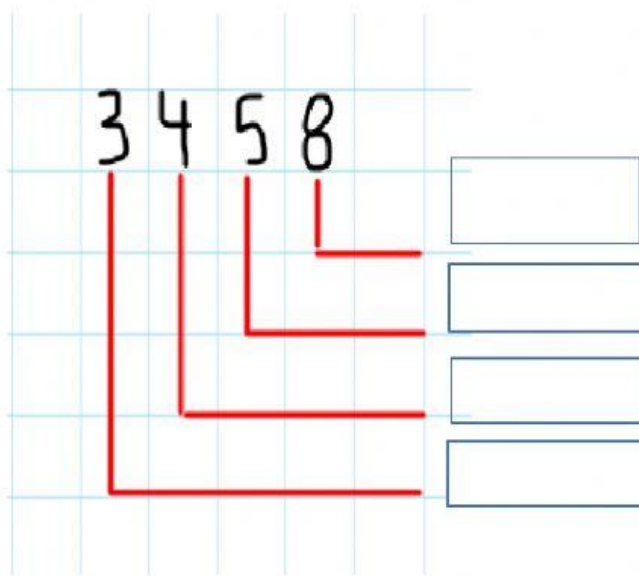


3.- Escribir en letras las unidades de mil.

a.- 4560 =

b.- 1985 =


4.- Identifique el valor posicional del número.



UM	C	D	U
----	---	---	---

5.- RESUELVA LOS PROBLEMAS.

A.- Juan tiene en su granja 1800 gallinas y 2695 cuyes.
¿Cuántos animales tiene Juan?



- a. 4000
- b. 6549
- c. 4495

B.- En un terreno sembramos 5700 plantas de tomate,
durante una semana no hubo lluvias, por esta razón murieron
1865 plantas. ¿Cuántas plantas de tomate quedaron vivas en
el terreno



- a. 3500
- b. 3835
- c. 1890

