

AULA DE MEDIOS  
MTRA. VERO



Resuelve los siguientes ejercicios.

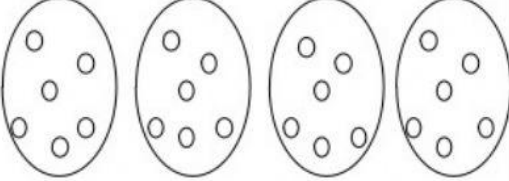

Objetivo: Multiplicación iterada, resolución de problemas y multiplicaciones del 2, 5 y 10.

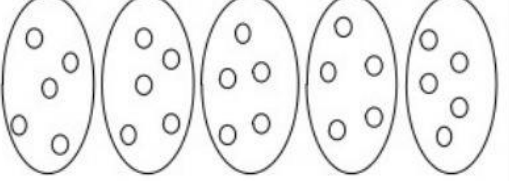

Nº	HABILIDAD	CATEGORÍA	CONTENIDO	APRENDIZAJE ESPERADO	PUNTAJE
	Multiplicar Reconocer Contar	Básica Compleja	Multiplicaciones.	Multiplicación a través de sumas iteradas. Manejo de tablas del 2, 5 y 10. Resolución de problemas.	54

Resuelve las siguientes adiciones iteradas. (8 puntos)

$5 + 5 + 5 + 5 + 5 =$	$6 + 6 + 6 =$
$7 + 7 + 7 + 7 + 7 + 7 + 7 =$	$2 + 2 + 2 + 2 + 2 + 2 =$
$4 + 4 + 4 + 4 =$	$3 + 3 + 3 + 3 + 3 + 3 + 3 =$
$9 + 9 =$	$8 + 8 + 8 + 8 + 8 + 8 + 8 + 8 =$

1. Observa las imágenes, escribe la cantidad de elementos de cada grupo como una suma iterada y como una multiplicación. No olvides de escribir el resultado en ambos casos. (8 puntos)

	
Suma iterada:	Suma iterada:
Multiplicación:	Multiplicación:

	
Suma iterada:	Suma iterada:
Multiplicación:	Multiplicación: