







Une con flechas




altura	distingue entre sonidos fuertes y suaves
duración	distingue entre sonidos agudos y graves
intensidad	distingue aquello que suena
timbre	distingue entre sonidos largos y cortos

Escribe el valor de cada grupo siguiendo el ejemplo resuelto.

(Escribe solo el número)

 = 2 pulsos  =  =

 =  =  =

 =  =  =

Ordena los matices de mayor a menor intensidad

<input type="text"/>	<input type="text"/>	<input type="text"/>	<input type="text"/>	<input type="text"/>	<input type="text"/>
<i>f</i>	<i>mp</i>	<i>pp</i>	<i>mf</i>	<i>p</i>	<i>ff</i>