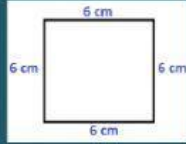




### PERÍMETRO

Recuerda!!! El perímetro es la suma de todos los lados de una figura geométrica.

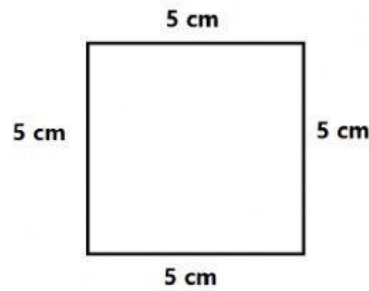


Ejemplo:

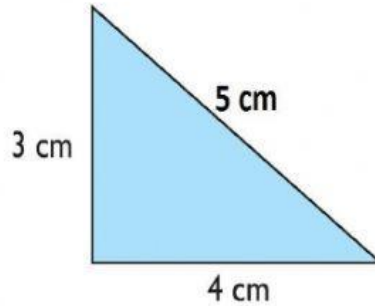
$$P = 6\text{ cm} + 6\text{ cm} + 6\text{ cm} + 6\text{ cm} = 24\text{ cm}$$

1) Ahora, calcula el perímetro de las siguientes figuras:

a)



**P=**

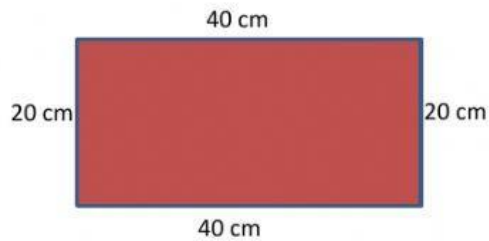


**P=**



b)

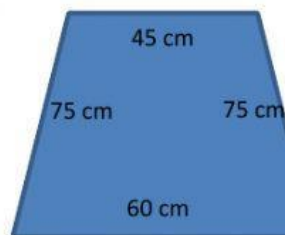
c)



**P=**



d)



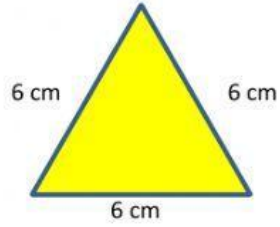
**P=**





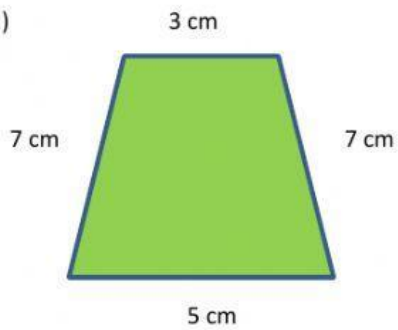
II) Ahora une cada figura con el perímetro correcto:

1)



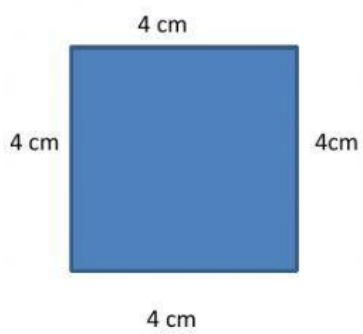
$$P = 26 \text{ cm}$$

2)



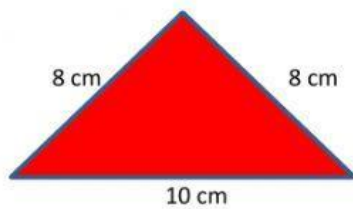
$$P = 16 \text{ cm}$$

3)



$$P = 22 \text{ cm}$$

4)



$$P = 18 \text{ cm}$$