



المملكة العربية السعودية
وزارة التعليم
إدارة التعليم الأحساء
الابتدائية الثالثة بالشعبية


تحديد الأنماط

اختاري الإجابة الصحيحة:

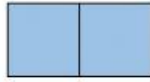


(١) وحدة النمط في الشكل المجاور

ج



ب




أ



(٢) الشكل المشابه للنمط المجاور:

ب



أ

