

# PEMBELAHAN SEL

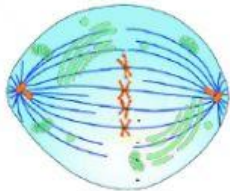
NAMA :

KELAS :

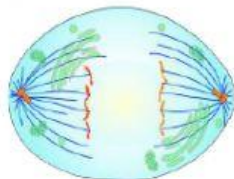
1. Pada hewan amoeba , pembelahan sel dilakukan dengan cara...

- A. Mitosis                      C. Amitosis                      E. Gametogenesis  
B. Oogenesis                  D. Meiosis

2. Tariklah gambar ke tahap pembelahan yang sesuai`...



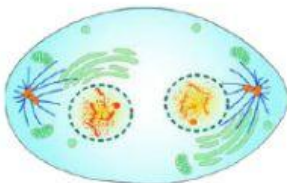
PROPASE



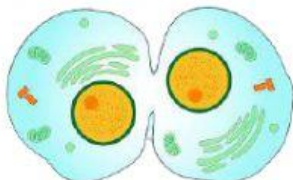
METAFASE



SITOKINESIS

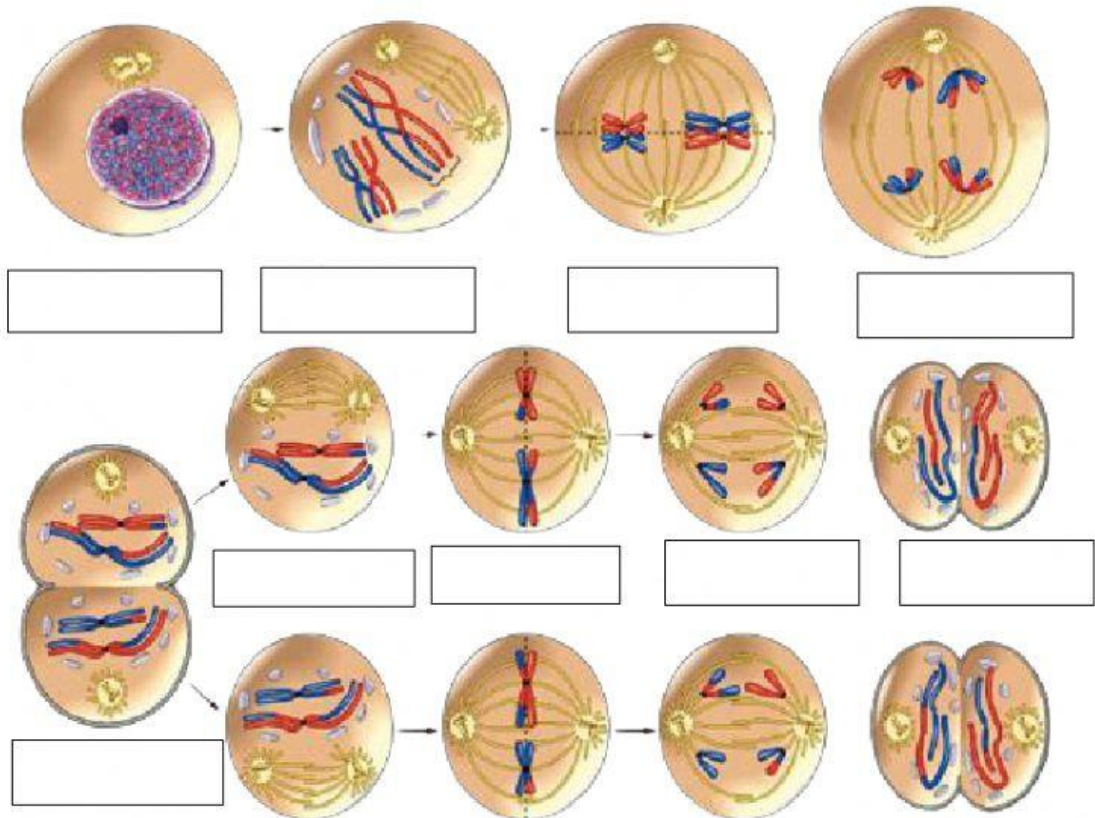


ANAFASE



TELOPASE

3. Lengkapi proses meiosis berikut ini dengan cara mencocokkan gambar yang sesuai



INTERPHASE

ANAPASE I

TELOPASE I

METAPHASE I

ANAPHASE II

PROPHASE II

METAPHASE II

TELOPHASE II

PROPASE I