

Cuadrado y cubo de un número


 Escribe en forma de cuadrado o de cubo y calcula su valor.

Cuadrado

- $2 \times 2 = 2^2 =$ _____
- $4 \times 4 =$ _____
- $6 \times 6 =$ _____
- $8 \times 8 =$ _____


Cubo

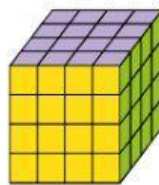

- $3 \times 3 \times 3 = 3^3 =$ _____
- $5 \times 5 \times 5 =$ _____
- $7 \times 7 \times 7 =$ _____
- $9 \times 9 \times 9 =$ _____

 Escribe como producto y calcula.

- $7^2 =$ _____
- $3^3 =$ _____
- $8^3 =$ _____
- $5^2 =$ _____

- $9^2 =$ _____
- $6^3 =$ _____
- $2^3 =$ _____
- $4^3 =$ _____

 Escribe en forma de potencia y calcula su valor.



 Completa la tabla.

| | 3 | 5 | 7 | 11 |
|----------|---|---|---|----|
| Cuadrado | | | | |
| Cubo | | | | |

Uno de los libros de la biblioteca tiene 8 capítulos y cada capítulo tiene 8 páginas. ¿Cuántas páginas tiene en total el libro? Expresa en forma de potencia y calcula.

OPERACIONES

| | | | | | | | |
|--|--|--|--|--|--|--|--|
| | | | | | | | |
| | | | | | | | |
| | | | | | | | |
| | | | | | | | |
| | | | | | | | |
| | | | | | | | |
| | | | | | | | |
| | | | | | | | |



DATOS

.....

.....

.....

SOLUCIÓN: _____

En una mesa hay 6 platos. En cada plato hay 6 sándwiches y en cada sándwich hay 6 rodajas de salchichón. ¿Cuántas rodajas de salchichón hay en total?

DATOS

OPERACIONES

SOLUCIÓN: _____

En una pajarería hay 7 jaulas. En cada jaula hay 7 canarios. ¿Cuántos canarios hay en total?

DATOS

OPERACIONES

SOLUCIÓN: _____

El profesor nos ha propuesto el siguiente reto: En la biblioteca hay 13 estanterías, en cada estantería hay 13 baldas y en cada balda caben 13 libros. ¿Cuántos libros hay en la biblioteca del colegio?

OPERACIONES

| | | | | | | | |
|--|--|--|--|--|--|--|--|
| | | | | | | | |
| | | | | | | | |
| | | | | | | | |
| | | | | | | | |
| | | | | | | | |
| | | | | | | | |
| | | | | | | | |
| | | | | | | | |

DATOS

.....

.....

.....

SOLUCIÓN: _____

