



MATH WORKSHEET

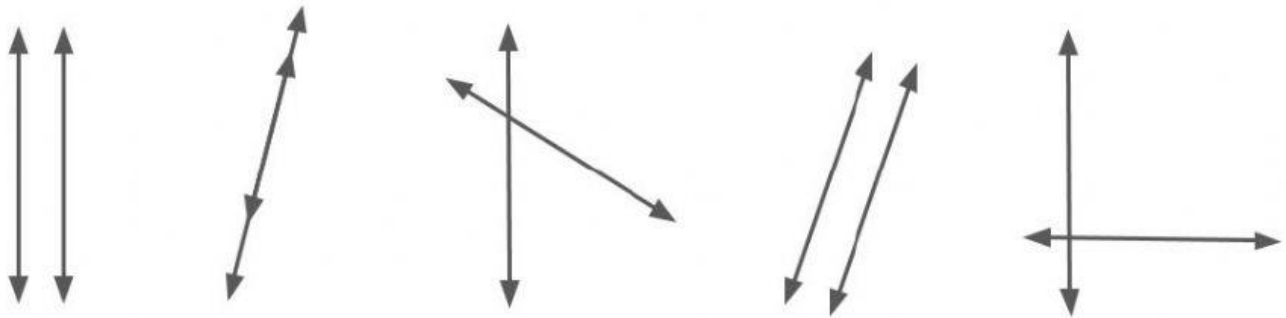
MATERI : HUBUNGAN ANTAR GARIS



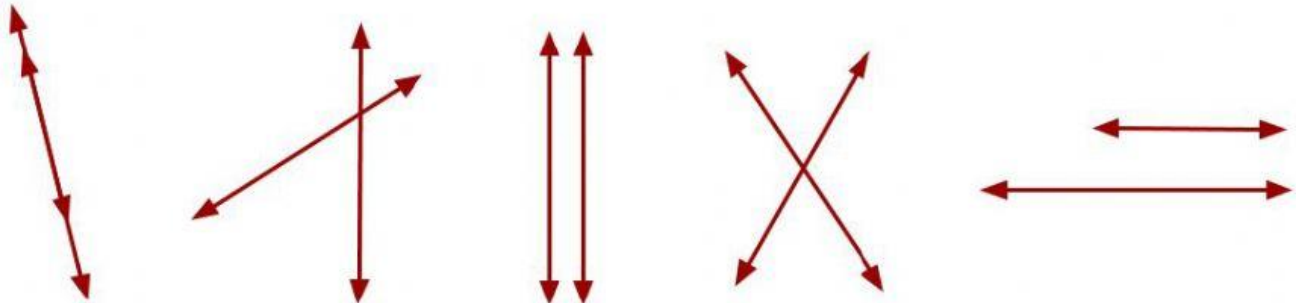
Nama :

Kerjakanlah soal-soal di bawah ini setelah kamu menonton video pembelajarannya !

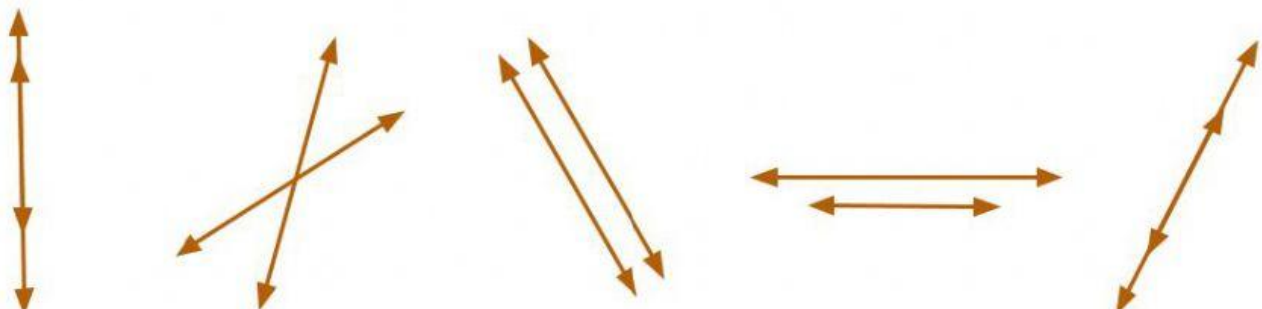
Pilihlah gambar yang menunjukkan hubungan dua garis yang **sejajar**! (pilihan bisa lebih dari satu)



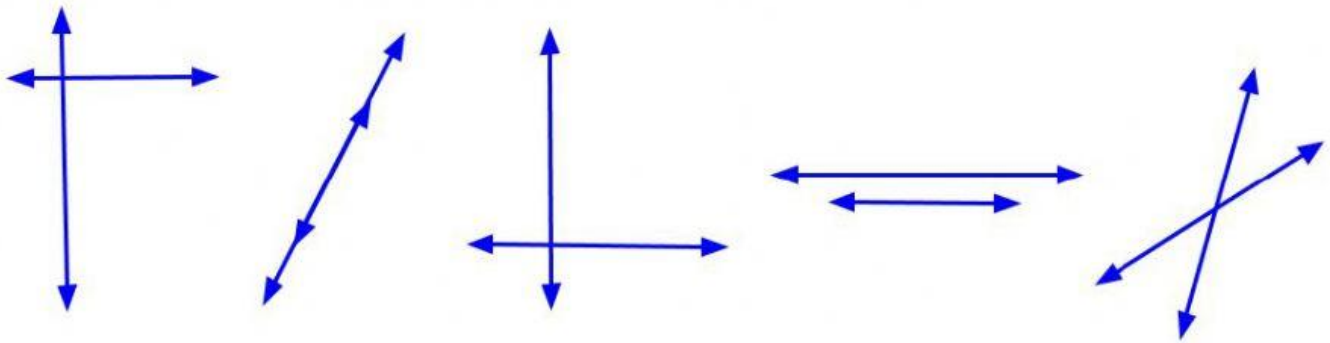
Pilihlah gambar yang menunjukkan hubungan dua garis yang **berpotongan**! (pilihan bisa lebih dari satu)



Pilihlah gambar yang menunjukkan hubungan dua garis yang **berimpit**! (pilihan bisa lebih dari satu)



Pilihlah gambar yang menunjukkan hubungan dua garis yang **berpotongan tegak lurus**! (pilihan bisa lebih dari satu)



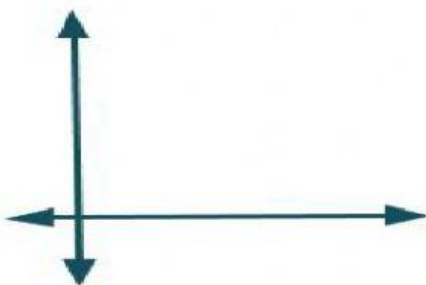
Pasangkan gambar-gambar di bawah ini sesuai dengan nama hubungan dua garisnya!



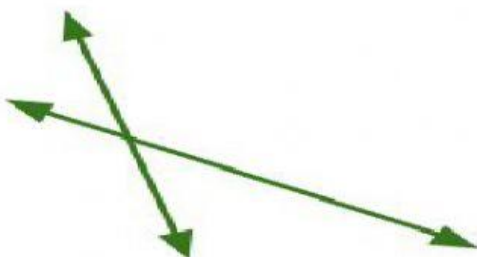
Berpotongan
tegak lurus



Berpotongan



Sejajar



Berimpit