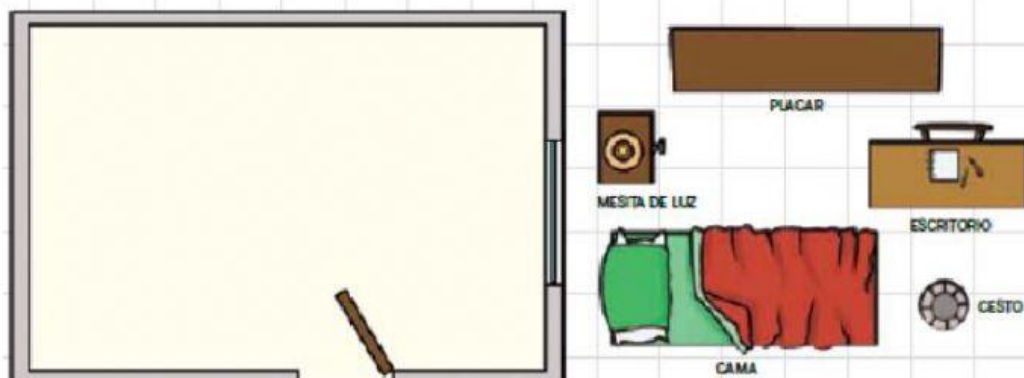


USO DE PLANOS – SEGUNDO GRADO

ACTIVIDAD 1:

Este es el plano del dormitorio de Dante. Dibujen dónde están ubicados los muebles teniendo en cuenta las instrucciones:



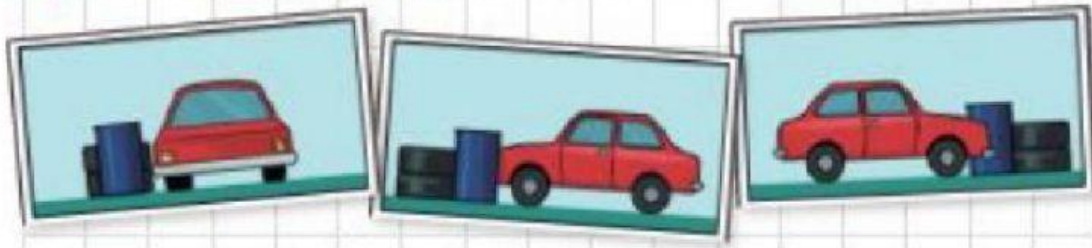
- El placar está apoyado en la pared donde está la puerta.
- El escritorio está ubicado contra la pared que está frente a la ventana.
- El cesto de la basura está entre el escritorio y la pared opuesta a la puerta, justo en la esquina.
- La cama está colocada a lo largo de la pared donde está la ventana.
- La mesa de luz está contra la pared frente a la puerta, al lado de la cama.

ACTIVIDAD 2:

En este dibujo puede verse a Nicolás y a Augusto sacando fotos en el museo del automóvil.

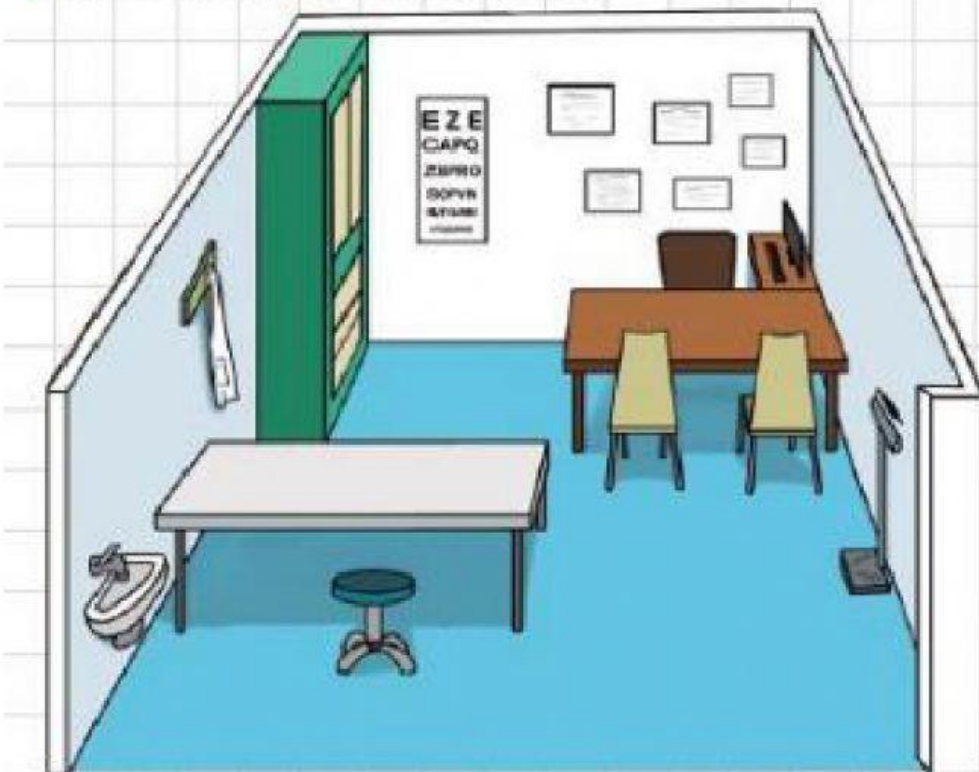


¿Cuál de estas fotos será la que sacó Nicolás?



ACTIVIDAD 3:

Este es el dibujo del consultorio del doctor Alonso.



¿Cuál de estos planos les parece que podría representar el consultorio visto desde arriba?

