

Copia la información del siguiente pizarrón en tu cuaderno

La decena


Una unidad es un solo objeto.



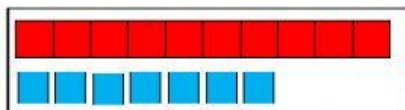
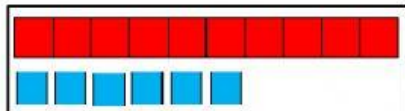
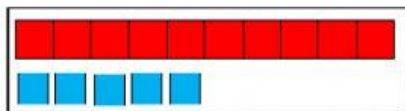
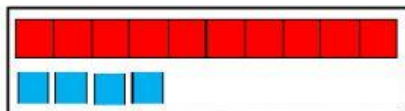
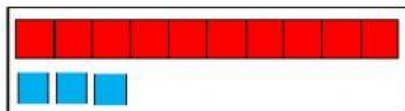
Una decena es un conjunto de 10 unidades



El número once tiene una decena y una unidad



Une con una línea cada número con su representación:



14 catorce

17 diecisiete

13 trece

16 dieciséis

15 quince

Observa las siguientes decenas y unidades. Luego escribe debajo de cada recuadro cuál es el número que representa

