



Muchas veces el mismo número

RECUERDEN:

Cuando debemos sumar un número varias veces, usamos la MULTIPLICACIÓN.


X

Este es el símbolo de la multiplicación.

Se lee "POR".

Indica CUÁNTAS VECES tenemos que sumar el mismo número.

Por ejemplo:




- En la imagen hay _____ vasos.
- Cada vaso tiene _____ lápices.
- Podemos sumarlos: _____ + _____ + _____ = _____ lápices.
- Para hacer más rápido y sencillo, podemos MULTIPLICAR. Hay _____ veces **4** lápices. Es decir:

$$\underline{\quad} \text{ **4** } \underline{\quad} + \underline{\quad} + \underline{\quad} = \underline{\quad}$$

$$3 \text{ veces } 4 = \underline{\quad}$$


$$3 \times 4 = \underline{\quad}$$

- Ahora ustedes:




_____ veces _____ es _____

_____ x _____ = _____




_____ veces _____ es _____

_____ x _____ = _____



_____ veces _____ es _____

_____ x _____ = _____



_____ veces _____ es _____

x _____ = _____

- Ahora resuelvan en su cuaderno este problemita con una suma o con una multiplicación. No se olviden de escribir la cuenta y la respuesta.

Las 3 chanchas de la granja tuvieron 6 chanchitos cada una.

*¿Cuántos **chanchitos** nacieron en total?*

