

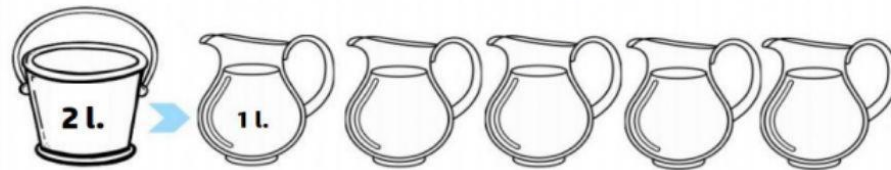
MEDIDAS DE CAPACIDAD

1) PENSÁ Y UNÍ CON FLECHAS



2) PENSÁ Y RESPONDÉ USANDO SOLO NÚMEROS

¿CUÁNTAS JARRAS DE 1 LITRO NECESITÁS PARA LLENAR EL BALDE DE AGUA?


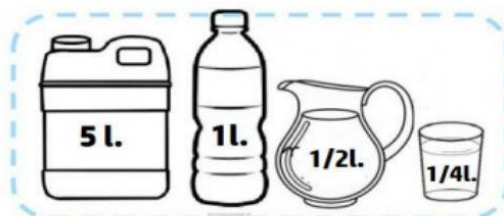


¿CUÁNTAS JARRAS DE 1/2 LITRO NECESITÁS PARA LLENAR EL BALDE DE AGUA?



3) ¿CUÁNTOS LITROS HAY?

Observá la capacidad de cada recipiente, contá y completá usando números.



HAY _____ LITROS



HAY _____ LITROS



HAY _____ LITROS

4) ALCANZA EL AGUA QUE QUEDA EN EL BIDÓN PARA LLENAR TODAS ESTAS BOTELLAS?

