





PARALELOGRAMOS

1.- HAZ clic en el símbolo, ESCUCHA el nombre del paralelogramo y arrastra la figura que corresponda.



2.- OBSERVA la siguiente imagen y MARCA el nombre de los paralelogramos que se encuentran en ella.



Rombo



Rectángulo



Romboide




Cuadrado



3.- ELIGE la clase de ángulo que tienen los siguientes paralelogramos



4.- SELECCIONA dos razones por las cuales el trapecio no forma parte de los paralelogramos.



Tiene sus lados paralelos de dos en dos .



Los ángulos opuestos son iguales.



Tiene solo dos lados paralelos



Los ángulos opuestos no son iguales.