

Nombre y apellidos:Nº: Fecha:

estándares	ejercicios	calificación
1.1. Identifica y describe la estructura de los seres vivos: células, tejidos, órganos, aparatos y sistemas , identificando las principales características y funciones de cada uno de ellos. (TEMA 1, PÁG 10 Y 11)	1, 2	
2.1. Identifica y explica las relaciones entre los seres vivos (función de relación). (TEMA 1, pág 13) Reconoce las Funciones vitales de los seres vivos.	5	
2.3 Nombra los 5 reinos a los que pertenecen los seres vivos y conoce quien pertenece a cada uno. (TEMA 1 PÁG 14 Y 15).	3, 4	
Valoración final:		





1. Completa las frases siguientes:

- Los seres vivos formados por una sola célula son seres
- Los seres vivos formados por muchas células son seres
- Losson conjuntos de células similares especializados en realizar una misma tarea. Por ejemplo, los músculos.
- El estómago o el corazón son
- Nombra algunos aparatos que encontramos en nuestro cuerpo:
.....,,

2. ¿A qué parte de la célula nos referimos en cada caso?

- Parte que recubre la célula y a través de ella salen y entran sustancias.....
- Parte de la célula que controla la actividad y contiene la parte genética.
- Parte de la célula encargada en fabricar sustancias, obtener energía, etc.

3. Escribe el reino al que pertenece cada ser vivo.

Bacterias	algas	hongos	plantas	animales
				
<input type="text"/>	<input type="text"/>	<input type="text"/>	<input type="text"/>	

4. Señala en cada caso la respuesta correcta (solo una):

1. Cuál de estos términos está relacionado con el reino de las plantas.

- a) Son autótrofas.
- b) Las algas pertenecen a este reino.
- c) No fabrican su propio alimento.

2. Dentro del reino de los protocistas encontramos:

- a) Protozoos y algas
- b) Bacterias
- c) Setas y levaduras.

3. Algas son un tipo de:

- a) Planta
- b) Protocista
- c) Levadura

4. Cuál de estos términos está relacionado con el reino de los animales:

- a) Son heterótrofos
- b) Solo viven en el mar
- c) Su reproducción es asexual

5. ¿Cuál de los siguientes no pertenece al reino de los hongos?

- a) Setas
- b) Levaduras
- c) Bacterias

5. Verdadero (V) o falso (F). En las falsas, escribe como pueden ser verdaderas.

_____ Las funciones vitales más importantes son relación, nutrición y repartición.

_____ La reproducción sexual es la unión de las células masculinas y femeninas.

_____ Las plantas son heterótrofas.

_____ Los animales solo se alimentan de plantas.

_____ La función de relación nos permite sentir las cosas que ocurren fuera y dentro de nuestro cuerpo.

_____ A través de los sentidos podemos relacionarnos con el medio.

_____ Las plantas se relacionan con el medio a través del sistema nervioso.

_____ Casi todos los seres vivos respiramos tomando oxígeno del aire o del agua.