

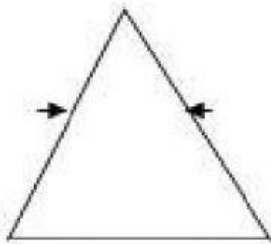
Nombre: \_\_\_\_\_ Curso : 7mo. \_\_

**PASE DE SALIDA**

Clasifique los triángulos según sus lados y ángulos.

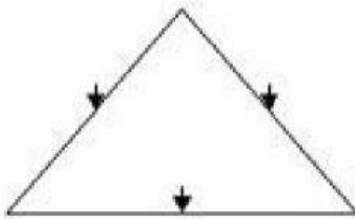
Según sus lados

Según sus ángulos



\_\_\_\_\_

\_\_\_\_\_



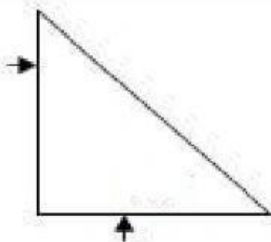
\_\_\_\_\_

\_\_\_\_\_



\_\_\_\_\_

\_\_\_\_\_



\_\_\_\_\_

\_\_\_\_\_