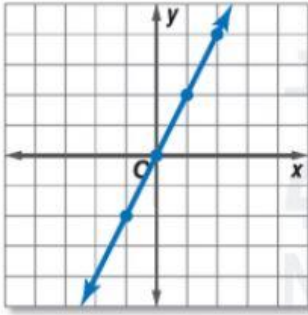


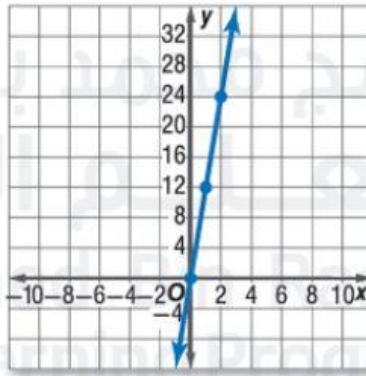
اكتب معادلة في صورة رمز دالة لكل علاقة.

5



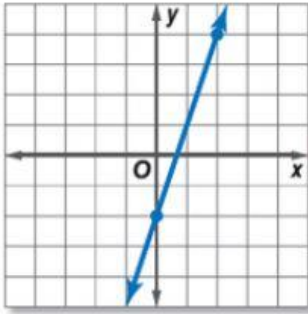
$f(x) =$

6.



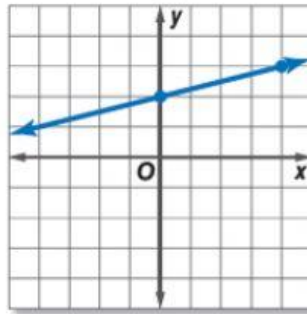
$f(x) =$

7.



$f(x) =$

8.



$f(x) =$