


SOLUCIÓN de PROBLEMAS

1. Lee el problema, analiza y selecciona la opción correcta

La maestra les entregará estrellas a sus alumnos. Si les dará la misma cantidad de estrellas ¿Cuántas estrellas le dará a cada uno?




¿Cuántas estrellas tiene la maestra?

¿Qué operación debe realizar la maestra?

¿Cuántas estrellas le dará la maestra a cada niño?

Rafa quiere regalarles peluches a sus amigas, él tomará un peluche y repartirá por igual el resto. ¿Cuántos peluches le dará Rafa a cada amiga?




¿Cuántos peluches repartirá Rafa?

¿Entre cuántas personas se hará la repartición?

¿Qué operación debe realizar Rafa?

¿Cuántos peluches le dará Rafa a cada amiga?

Lucinda desea hacer tres arreglos florales y quiere colocar la misma cantidad de flores en cada uno. ¿Cuántas flores colocará Lucinda en cada arreglo?



¿Cuántas flores tiene Lucinda?

¿Cuántos arreglos debe hacer Lucinda?

¿Qué operación debe realizar Lucinda?

¿Cuántas flores colocará Lucinda en cada arreglo?