

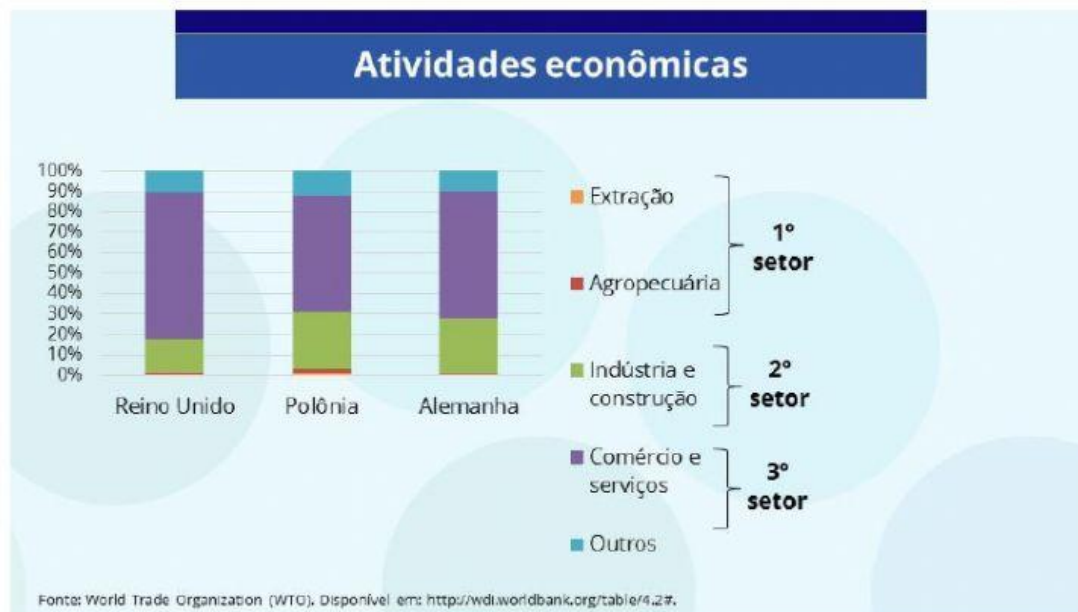
Nome: _____ Nº: _____ ANO _____

Europa, na Ásia e na Oceania Retomando... Globalização

O processo de **globalização** leva à **mundialização** do espaço geográfico. Por isso, os territórios nacionais tornam-se espaços da **economia internacional**.

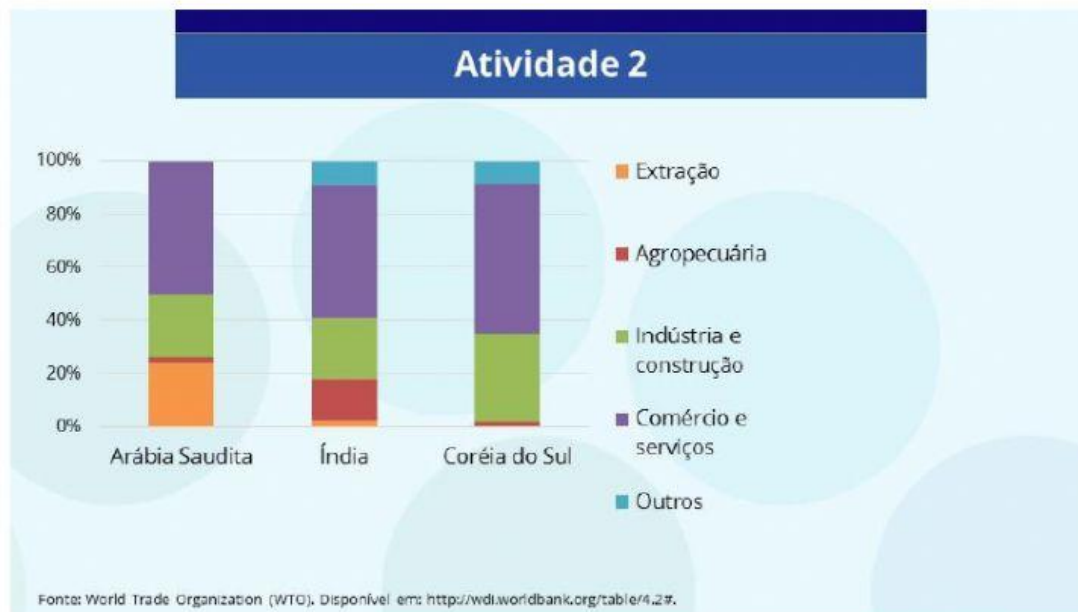


1. **Qual país** mais comprou produtos do Brasil?
2. Os produtos brasileiros são vendidos principalmente para **quais continentes**?



1. O gráfico aborda países de **qual continente?**

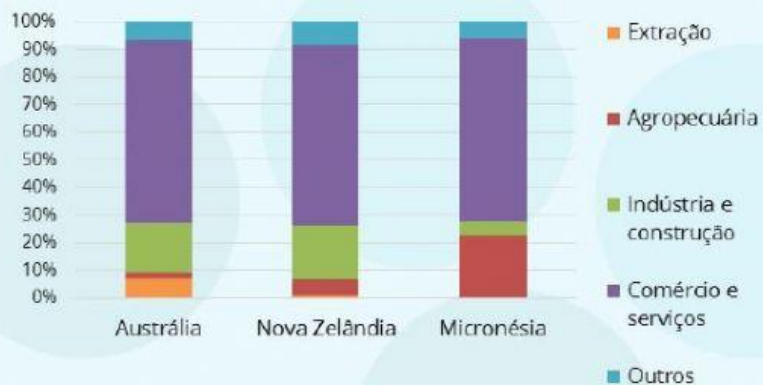
2. Qual é o **principal setor** da economia desses países: 1º, 2º ou 3º?



1. O gráfico aborda países de **qual continente?**

2. A economia de **qual país** é mais impactada pela **extração de matéria-prima?**

Atividade 3



Fonte: World Trade Organization (WTO). Disponível em: <http://wdi.worldbank.org/table/4.2#>.

1. O gráfico aborda países de qual continente?

2. A economia de qual país é mais impactada pelo 1º setor?